

ప్రీ-అప్సర్ ప్రైమరీ స్కాలర్షిప్ ఎగ్జామినేషన్ (5వ తరగతి), ఫిబ్రవరి 2020

సీటు నం.

--	--	--	--	--	--	--	--	--	--

0	7	0	2
---	---	---	---

సెట్



పేపర్ నెం. II

పేజీలు: 32

మీడియం: ఇంగ్లీష్

మూడవ భాష మరియు ఇంటలిజెన్స్ పరీక్ష

సమయం: 1:30 నుండి 3:00 వరకు

మొత్తం మార్కులు: 150

మీరు ప్రశ్నలకు సమాధానం ఇచ్చే ముందు ఈ క్రింది సూచనలను జాగ్రత్తగా చదవండి.

౧. ఈ ప్రశ్నపత్రంలో రెండు విభాగాలు ఉన్నాయి. సెక్షన్ I లో మూడవ భాషకు సంబంధించి 1 నుండి 25 ప్రశ్నలు మరియు సెక్షన్ II లో ఇంటలిజెన్స్ టెస్ట్ కు సంబంధించి 26 నుండి 75 ప్రశ్నలు ఉన్నాయి. మొత్తం 75 ప్రశ్నలు తప్పనిసరి.
౨. అన్ని ప్రశ్నలకు 2 మార్కులు ఉంటాయి.
౩. ప్రశ్నపత్రాన్ని పూర్తిచేయడానికి కాలవరిమితి 90 నిమిషాలు.
౪. సమాధానాలను రికార్డ్ చేయడానికి ప్రత్యేక జవాబు పత్రం ఇవ్వబడుతుంది. ప్రతి ప్రశ్నకు నాలుగు ప్రత్యామ్నాయాలు ఇవ్వబడ్డాయి. వాటిని జాగ్రత్తగా చదవండి. జవాబు పత్రంలో సరైన సమాధానం ఎంచుకోండి మరియు షేడ్ చేయండి.
ఉదాహరణ కోసం: - ప్రశ్న నెం. 6 కి సరైన ప్రత్యామ్నాయం 2 అయితే మీ జవాబును ఈ క్రింది విధంగా రికార్డ్ చేయండి:
ప్రశ్న నెం. 6 -

①	●	③	④
---	---	---	---
౫. మరే ఇతర రూపంలో నమోదు చేయబడిన సమాధానం పరిగణించబడదు. అలాంటి సమాధానానికి 'సున్నా' మార్కు ఇవ్వబడుతుంది.

ⓧ	Ⓜ	Ⓝ	ⓧ
---	---	---	---
౬. వుత్తాన్ని దిద్దడానికి నీలం లేదా నలుపు బాల్ పెన్ను ఉపయోగించండి. వెనిల్ ద్వారా దిద్దిన వుత్తాలు పరిగణించబడవు.
౭. ఒకటి కంటే ఎక్కువ వుత్తాలు దిద్దినా లేదా ఓవర్ రైటింగ్ చేయబడినా, సమాధానం అంగీకరించబడదు.
౮. ఒకసారి రికార్డ్ చేసిన సమాధానం మార్చబడదు.
౯. చిత్తు పనికి (రఫ్ వర్క్) ప్రతి పేజీ క్రింద లేదా ప్రశ్నపత్రం యొక్క చివరి పేజీలో ఇచ్చిన స్థలంలో చేయాలి.
౧౦. పరీక్షకు పరిమిత సమయం ఉంది, ఒకవేళ మీరు ఒక ప్రశ్నను పరిష్కరించలేకపోతే, దయచేసి తరువాతి ప్రశ్నను పరిష్కరించండి. సమయం అనుమతిస్తే చివరికి మీరు పరిష్కరించని ప్రశ్నలను పరిష్కరించడానికి ప్రయత్నించవచ్చు.
౧౧. మీకు ఏవైనా ప్రశ్న అసంపూర్ణంగా లేదా లోపంగా అనిపిస్తే, అప్పుడు సూపర్ వైజర్ లేదా సెంటర్ ఇన్ ఛార్జిని ఏమీ అడగవద్దు.
౧౨. ఏదైనా లోపం / పొరపాటు / అభ్యంతర విషయాల కోసం, పాఠశాల లేదా తల్లిదండ్రులు బ్లాక్ ఎడ్యుకేషన్ ఆఫీసర్ లేదా ఎడ్యుకేషన్ ఆఫీసర్ కు లిఖితపూర్వక దరఖాస్తును పంపకూడదు. ఈ లోపం / పొరపాటు / అభ్యంతర విషయాలను సంబంధిత పాఠశాల లాగిన్ ద్వారా మాత్రమే ఆన్ లైన్ లో నమోదు చేసుకోవాలి.
౧౩. MSCE వెబ్ సైట్ లో తాత్కాలిక జవాబు కీని ప్రచురించిన 10 రోజుల వ్యవధిలో లోపం / పొరపాటు / అభ్యంతర విషయాలను ఆన్ లైన్ లో నమోదు చేయాలి.
౧౪. ఫ్రొంటింగ్ లేదా ప్రశ్నపత్రంలో ఏదైనా ఇతర పొరపాటుపై నిపుణుల కమిటీ యొక్క సూచన మరియు నిర్ణయం వర్తిస్తుంది.

SECTION-I

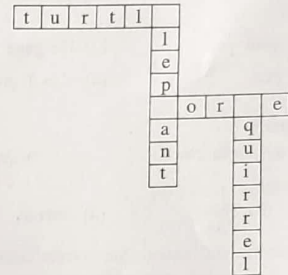
Q.1 to Q.3 : Read the passage carefully and answer the following questions.

A crow was very thirsty. It flew to a garden in search of water. There was a pot having a little water in it. So the crow put pebbles into the pot. The water rose up. The crow drank it and flew away.

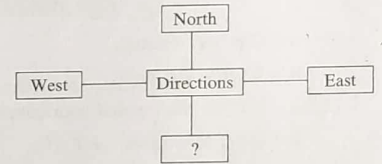
- Who was very thirsty?
 - cow
 - crow
 - parrot
 - fox
- Select the correct option and complete the sentence.
The crow flew to a in search of water.
 - Garden
 - Well
 - House
 - School
- What did the crow put into the pot?
 - Leaves
 - Sticks
 - Pebbles
 - Money
- If dogs: bark
then bears:
 - Snore
 - Squawk
 - Squeal
 - Screech

SPACE FOR ROUGH WORK

- Select the correct option and solve the puzzle.



- k, l, o
 - m, g, b
 - l, s, j
 - e, h, s
- Select the correct alternative and fill in the box.
 - East west
 - South
 - South east
 - South west



- Select the correct option and complete the sentence.
I will give it back to you
 - Yesterday
 - Last week
 - Tomorrow
 - Long long ago

SPACE FOR ROUGH WORK

8. Choose the correct request from the
My friend forgot his pen.
He said, ".....".
- (1) Please give me your pen. (2) He gave me his pen.
(3) I brought your pen. (4) Can I give my pen to you?

9. Select the correct option.
We should cover our mouth when
we
- (1) Share (2) Crawl (3) Sneeze (4) Climb

10. Look at the given picture and choose the correct conversation.



- (1) A : Give me tomatoes.
B : Where's your bag?
- (2) A : Do you like roasted corn cobs?
B : Oh! I love them.
- (3) A : Hello uncle can you deliver the box today?
B : Sure.
- (4) A : Have you tried these cakes?
B : This is a new cake shop.

SPACE FOR ROUGH WORK

11. Select the correct option.
Keep your hands on your

- (1) waste (2) west
(3) wait (4) waist

12. Find the odd pair.
- (1) August September (2) October November
(3) April May (4) June August

13. Find out the odd term
- (1) Thigh (2) Deer
(3) Thieves (4) Oxen

14. Select the correct option and complete the sentence.
Isha..... eat fruits.

- (1) doesn't (2) doesn't
(3) doesn't (4) doesn't

15. Select the correct option and complete the sentence.
We go by Auto-rickshaw

- (1) A (2) The
(3) An (4) No article

16. Find the odd group
- (1) king, ring, thing, sing (2) tall, fall, ball, call
(3) keep, peep, sheep, jeep (4) get, wet, not, let

SPACE FOR ROUGH WORK

17. Select the correct punctuation mark for the given sentence.
Does she go to school

- (1) Full stop (2) Comma
(3) Question mark (4) Capitalization

18.

Maha Sale
Sari and Kurti
Offer- Buy 1 Get 3
Rs. 1000/- only

The special offer is

- (1) Buy one get one
(2) Buy one get two
(3) Buy one get three
(4) Buy one get four

19. Choose the correct sentence showing proper position of a comma.

- (1) Master Master have, pity, on me.
(2) Master Master have, pity on, me.
(3) Master, Master, have pity on me.
(4) Master Master have pity, on me.

20. Solve the riddle.

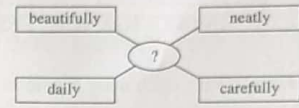
I use scissors. I use a needle
and thread. I make clothes
from cloth. Who am I ?

- (1) Tailor (2) Potter (3) Cobbler (4) Jeweller

SPACE FOR ROUGH WORK

21. Find out the correct word to complete the given diagram.

- (1) Run
(2) Write
(3) Eat
(4) Sleep



22. Where should be the exclamation mark in the given sentence?
Select the correct option.
Good morning Kondiba

- (1) after morning (2) after good
(3) before Kondiba (4) after Kondiba

23. Choose the correct option.

Many Many Happy Returns Of The Day !

This message is about.....

- (1) Wedding (2) New year
(3) Birthday (4) Journey

24. Select the correct alternative

As yellow as

- (1) Dawn (2) Rain
(3) Turmeric (4) Honey

25. Find the odd group.

- (1) cement, city, circus, centre (2) group, good, gate, ground
(3) brown, bucket, black, brinjal (4) kite, kangaroo, know, king

SPACE FOR ROUGH WORK

ABCDE FGHIJ KLMNO PQRST UVWXY

SECTION-II
INTELLIGENCE TEST

26. In the word 'ADJECTIVE' which letter is third to the left of the middle position letter ?

- (1) D (2) J
(3) V (4) I

27. ABCDE FGHIJ KLMNO PQRST UVWXY

In the given letters series, what is the position of the letter from start which is fourth to the left of the letter which is tenth from the right side of the series.

- (1) 19 (2) 12
(3) 20 (4) 6

28. How many total vowels are there in the given sentence ?

'Rupa gave letter to Ram.'

- (1) 5 (2) 3
(3) 8 (4) 9

29. 3, 2, 7, 1, 0, 5, 6, 6, 4, 3, 6, 1, 7, 3, 3, 2

In the given number series, what is the difference between the square of the number which is 6th from left and which is 7th from right side ?

- (1) 34 (2) 0
(3) 8 (4) 16

SPACE FOR ROUGH WORK

ABCDE FGHIJ KLMNO PQRST UVWXY

SECTION-II
INTELLIGENCE TEST

26. క్రియావిశేషణ దర్శకం ఈ వదము మద్య భాగములో ఉన్న అక్షరం యొక్క ఎడమ నుండి మూడవ అక్షరం ఏది ?

- 1) యా 2) ఐ
3) ర్ష 4) డ

27. ABCDE FGHIJ KLMNO PQRST UVWXY

పై అక్షరమాలలోని కుడి నుండి పదవ అక్షరము యొక్క ఎడమ నుండి నాలుగవ అక్షరం మొదటి నుండి రెక్కెడతే ఎన్నెవది వచ్చును ?

- 1) 19 2) 12
3) 20 4) 6

28. 'పర్యావరణ దినోత్సవం 'బ్రహ్మపురాణం, విద్యార్థులు, పుణ్యము, స్వతంత్రం' ఈ పదాలలో మొత్తం ఎన్ని సంయుక్తరాలు గలవు?

- 1) 5 2) 3
3) 8 4) 9

29. 3, 2, 7, 1, 0, 5, 6, 6, 4, 3, 6, 1, 7, 3, 3, 2

పై అంకమాలిక లోని ఎడమ నుండి ఆరవ అంక యొక్క వర్గం మరియు కుడి నుండి 7 వ అంక యొక్క వర్గం దీనిలో ఎంత తేడా వచ్చును ?


- 1) 34 2) 0
3) 8 4) 16

SPACE FOR ROUGH WORK

ABCDE	FGHIJ	KLMNO	PQRST	UVWXY
-------	-------	-------	-------	-------

Note for : Q. 30 to Q. 34 : [Find odd man out]

30. (1) Puppet show (2) Television
 (3) Computer (4) Cinema
31. (1) May (2) July
 (3) June (4) August
32. (1) 2651 (2) 2246
 (3) 5324 (4) 6215
33. (1) 9338 (2) 7276
 (3) 9295 (4) 4279



35. In the given number series, select the correct option to replace the question mark.

3, 4, 7, 10, 15, 22, 31, ?

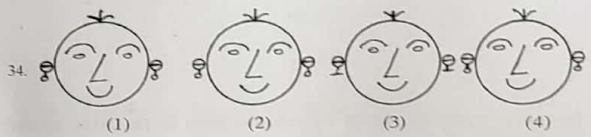
- (1) 46 (2) 40
 (3) 44 (4) 42

SPACE FOR ROUGH WORK

ABCDE	FGHIJ	KLMNO	PQRST	UVWXY
-------	-------	-------	-------	-------

30 నుండి 34 వరకు : వరుసలో వచ్చిన వాటిని వరుస గుర్తించండి.

30. (1) తోలుబొమ్మలాట (2) దూరదర్శని
 (3) కంప్యూటర్ (4) సినిమా
31. (1) మే (2) జూలై
 (3) జూన్ (4) ఆగస్ట్
32. (1) 2651 (2) 2246
 (3) 5324 (4) 6215
33. (1) 9338 (2) 7276
 (3) 9295 (4) 4279



35. క్రింది ప్రశ్న మాలికలో ప్రశ్న చిహ్నం వద్ద వుండవలసిన సంఖ్యను గుర్తించండి.


3, 4, 7, 10, 15, 22, 31, ?

- (1) 46 (2) 40
 (3) 44 (4) 42

SPACE FOR ROUGH WORK

ABCDE FGHIJ KLMNO PQRST UVWXY

36. In the given series of figures, select the correct option to replace the question mark.



37. Select the wrong term in the given number series.

2, 7, 28, 64, 126, 215

- (1) 28 (2) 64
(3) 215 (4) 7

38. Select the correct option to replace the question mark in the given number series.


14, 16, 19, 24, 31, 42, 55 ?

- (1) 65 (2) 72
(3) 75 (4) 70

SPACE FOR ROUGH WORK

ABCDE FGHIJ KLMNO PQRST UVWXY

36. క్రింది ఆకృతిలో విశిష్ట ప్రకారమైన క్రమము ఉంది ఆ క్రమము గుర్తించి ప్రశ్న చిహ్నం వద్ద ఏ ఆకృతి వచ్చునో గుర్తించండి?



37. క్రింది సంఖ్య మాలికలోని పరికాని పదము గుర్తించండి?

2, 7, 28, 64, 126, 215

- (1) 28 (2) 64
(3) 215 (4) 7

38. క్రింది సంఖ్యమాలికలో ప్రశ్న చిహ్నం వద్ద ఏ పర్యాయము వచ్చునో అది వ్రాయండి ?

14, 16, 19, 24, 31, 42, 55, ?

- (1) 65 (2) 72
(3) 75 (4) 70

SPACE FOR ROUGH WORK

A	B	C	D	E	F	G	H	I	J	K	L	M	N	O	P	Q	R	S	T	U	V	W	X	Y
---	---	---	---	---	---	---	---	---	---	---	---	---	---	---	---	---	---	---	---	---	---	---	---	---

39. Select the correct option to replace the question mark in the given groups of signs.

$< > + \times +$, $> + \times + <$, $+ \times + < >$, $\times + < > +$, ?

- (1) $< > + \times +$ (2) $+ \times + < >$
(3) $+ \times < > +$ (4) $+ < > + \times$

40. If Deer is called as Rabbit, Rabbit is called as Shekaroo, Shekaroo is called as Porcupise, Porcupise is called as Tiger, Tiger is called as Bear then which animal is the state animal ?

- (1) Shekaroo (2) Tiger
(3) Rabbit (4) Porcupise

41. The sum of ages of Mother, Father and Son three years ago was 73. What will be the sum of their ages five years later ?

- (1) 97 (2) 75
(3) 78 (4) 88

42. Anushka's score of marks is more than Aarya but less than Aaboli. Shevanti's score is same as Aarya but to more than Chameli. Who has scored the highest marks ?

- (1) Aarya (2) Aaboli
(3) Shevanti (4) Anushka

SPACE FOR ROUGH WORK

A	B	C	D	E	F	G	H	I	J	K	L	M	N	O	P	Q	R	S	T	U	V	W	X	Y
---	---	---	---	---	---	---	---	---	---	---	---	---	---	---	---	---	---	---	---	---	---	---	---	---

39. క్రింద ఇచ్చిన చిహ్నాల యొక్క మాలికలో ప్రశ్న చిహ్నం వద్ద చిహ్నం సమాహం వచ్చునో అది వ్రాయండి ?

$< > + \times +$, $> + \times + <$, $+ \times + < >$, $\times + < > +$, ?

- (1) $< > + \times +$ (2) $+ \times + < >$
(3) $+ \times < > +$ (4) $+ < > + \times$

40. జింకకు కుందేలు, కుందేలుకు ఎద్దపులి, ఎద్దపులికి ఏనుగు, ఏనుగుకు సింహం, సింహంకు ఒంటి ఇలా అనిపిస్తే మన జాతీయ మృగం ఏది?

- (1) ఎద్దపులి (2) సింహం
(3) కుందేలు (4) ఏనుగు

41. తల్లి, తండ్రి, కొడుకు, నీటి మూడు సంవత్సరాల క్రితం వయసుల మొత్తం 73 సంవత్సరాలు ఉండిన అయితే వారు సంవత్సరాల తర్వాత ఆ ముగ్గురి వయసుల మొత్తం ఎన్ని సంవత్సరాలు అగును ?

- (1) 97 (2) 75
(3) 78 (4) 88

42. అనుష్కకు ఆర్య కన్నా ఎక్కువ కానీ కవిత కన్నా తక్కువ మార్కులు వచ్చినవి. పూజకు ఆర్యకే వచ్చినవి, కానీ లావణ్య కన్నా ఎక్కువ మార్కులు వచ్చినవి అయితే అందరికన్నా ఎక్కువ మార్కులు ఎవరికి వచ్చాయి?

- (1) ఆర్య
(2) కవిత
(3) పూజ
(4) అనుష్క

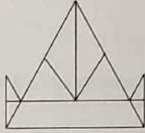
SPACE FOR ROUGH WORK

ABCDE FGHIJ KLMNO PQRST UVWXY

43. Akshay said to Aarti 'your mother's father is my father's father.' What is the relation of Akshay with Aarti's mother ?


- (1) Son of husband's brother
- (2) Uncle
- (3) Grandson
- (4) Son of husband's sister

44. How many total number of triangles are there in the adjacent figure ?



- (1) 14
- (2) 15
- (3) 10
- (4) 12

45. In the figure given below how many total number of quadrilaterals are there ?



- (1) 9
- (2) 6
- (3) 18
- (4) 15

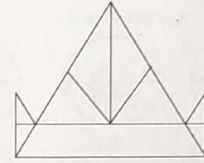
SPACE FOR ROUGH WORK

ABCDE FGHIJ KLMNO PQRST UVWXY

43. అక్షయ్ ఆర్తి తో అంటున్నాడు "మీ తల్లి యొక్క తండ్రి గారు మా తండ్రి గారి తండ్రి" అయితే అక్షయ్ ఆర్తి యొక్క తల్లికి ఏమి అవుతాడు?


- (1) మనకోడలు
- (2) కాక
- (3) మమమడు
- (4) మనల్నిడు

44. క్రింది ఆకృతిలో ఎన్ని త్రిభుజాలు ఉన్నాయి ?



- (1) 14
- (2) 15
- (3) 10
- (4) 12

45. క్రింది ఆకృతిలో మొత్తం ఎన్ని చతుర్భుజాలు ఉన్నాయి ?



- (1) 9
- (2) 6
- (3) 18
- (4) 15

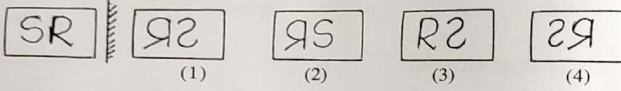
SPACE FOR ROUGH WORK

ABCDE FGHIJ KLMNO PQRST UVWXY

Note for Q. 46 and Q. 47 : Select the correct option to match the mirror image of the question figure.

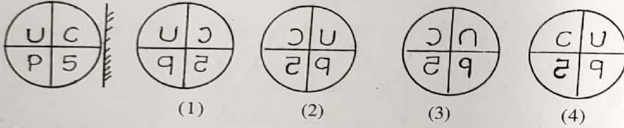
46. Question Figure

Answer Figure



47. Question Figure

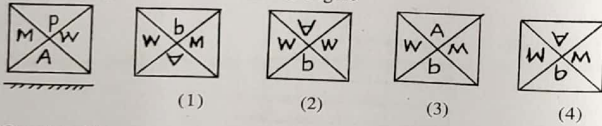
Answer Figure



Note for Q. 48 and Q. 49 : Select the correct option to match the water image of the question figure.

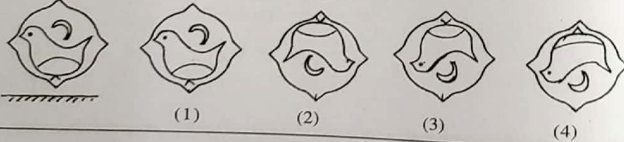
48. Question Figure

Answer Figure



49. Question Figure

Answer Figure

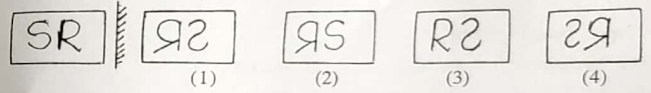


SPACE FOR ROUGH WORK

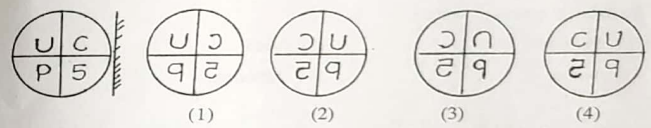
ABCDE FGHIJ KLMNO PQRST UVWXY

46 నుండి 47 కొరకు సూచనలు : క్రింది ప్రశ్నలో ప్రశ్నాకృతి యొక్క అద్దములోని ప్రతిమ ఎలా కనిపించును, అది వర్ణాయముల నుండి గుర్తించండి.

46. ప్రశ్నాకృతి

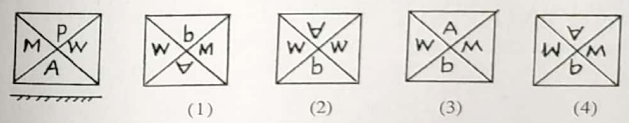


47. ప్రశ్నాకృతి



48 నుండి 49 కొరకు సూచనలు : క్రింది ఇచ్చిన ప్రశ్నాకృతి నీటి పై నిలుపుగా వచ్చుకుంటే దాని ప్రతిబింబం నీటిలో ఎలా కనిపించును అది వర్ణాయముల నుండి గుర్తించండి.

48. ప్రశ్నాకృతి



49. ప్రశ్నాకృతి



SPACE FOR ROUGH WORK

ABCDE	FGHIJ	KLMNO	PQRST	UVWXY
-------	-------	-------	-------	-------

Note for Q. 50 to Q. 54 : There exists a relation between first and second term, similar relation holds true for third and fourth term. Accordingly select the correct option to replace the question mark.





50. Crops : farm : : fruits : ?

- | | |
|-------------|------------|
| (1) Orchard | (2) Market |
| (3) Mall | (4) Shop |

51. Sparrow : noun : : went : ?

- | | |
|-------------|---------------|
| (1) Pronoun | (2) Verb |
| (3) Noun | (4) Adjective |

52.  : ?

- | | | | |
|---|---|---|---|
|  |  |  |  |
| (1) | (2) | (3) | (4) |

53. 5 : 12 : : 6 : ?

- | | |
|--------|--------|
| (1) 18 | (2) 15 |
| (3) 12 | (4) 21 |

54. 4396 : 6475 : : 3485 : ?

- | | |
|----------|----------|
| (1) 4595 | (2) 4574 |
| (3) 5564 | (4) 4564 |

SPACE FOR ROUGH WORK

ABCDE	FGHIJ	KLMNO	PQRST	UVWXY
-------	-------	-------	-------	-------

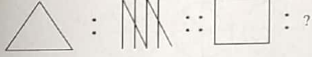
ప్ర.50, నుండి 54 కొరకు మూలనలు : మొదటి పదము రెండవ పదముతో ఏ సంబంధం ఉందో అదే సంబంధం మూడవ పదము యొక్క నాలుగవ పదముతో ఏతకండి.





50. కొడుకు : కుమారుడు :: తండ్రి : ?

- | | |
|--------------|--------------|
| (1) జనకుడు | (2) పుత్రుడు |
| (3) కుమార్తె | (4) తాత |

51. పిట్ట : నామవాచకం :: వెళ్ళి : ?

- | | |
|--------------|---------------|
| (1) సర్వనామం | (2) క్రియాపదం |
| (3) నామవాచకం | (4) విశేషణం |

52.  : ?

- | | | | |
|---|--|---|---|
|  |  |  |  |
| (1) | (2) | (3) | (4) |

53. 5 : 12 : : 6 : ?

- | | |
|--------|--------|
| (1) 18 | (2) 15 |
| (3) 12 | (4) 21 |

54. 4396 : 6475 : : 3485 : ?

- | | |
|----------|----------|
| (1) 4595 | (2) 4574 |
| (3) 5564 | (4) 4564 |

SPACE FOR ROUGH WORK

A	B	C	D	E	F	G	H	I	J	K	L	M	N	O	P	Q	R	S	T	U	V	W	X	Y
---	---	---	---	---	---	---	---	---	---	---	---	---	---	---	---	---	---	---	---	---	---	---	---	---

55. Which of the following action of Raju is correct, when he saw garbage lying at the place where small children were playing ?

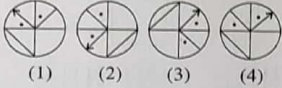
- (1) He picked up the garbage and threw it into the dustbin.
- (2) He neglected it.
- (3) He pushed out all the children from that place.
- (4) He purposely tell the security person to pick up the garbage.

Note for Q. 56 and Q. 57 : Select the figure perfectly matching to the question figure from the given options.

56. Question Figure



Answer Figure

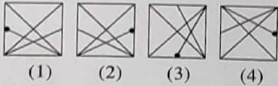


(1) (2) (3) (4)

57. Question Figure



Answer Figure



(1) (2) (3) (4)

58. In a row there are 15 girls to the right side of Savita and 11 girls to her left, if she is standing at the middle then what is her position number ?

- (1) 12th
- (2) 13th
- (3) 14th
- (4) 15th

SPACE FOR ROUGH WORK

A	B	C	D	E	F	G	H	I	J	K	L	M	N	O	P	Q	R	S	T	U	V	W	X	Y
---	---	---	---	---	---	---	---	---	---	---	---	---	---	---	---	---	---	---	---	---	---	---	---	---

55. ఎక్కడైతే చిన్న పిల్లలు ఆడుకుంటున్నారో అక్కడే పడన చెత్తను చూసి రాజు చేసిన కృతి ఏది సరియైనది అగును?

- (1) చెత్త ఎత్తే చెత్త కుండలో పేసాడు
- (2) నిర్లక్ష్యం చేశాడు
- (3) అందరి పిల్లలను అక్కడి నుండి తరిమివేశాడు
- (4) అక్కడి తోటమాలిని కావాలనీ ఆ చెత్త ఎత్తమన్నాడు

ప్ర.56, మరియు 57 కొరకు సూచనలు : క్రింది ప్రశ్నాకృతులలో సరిసమానంగా వున్న అక్షరకృతిని పర్యాయముల నుండి ఎఱకండి.

56. ప్రశ్నాకృతి



(1) (2) (3) (4)

57. ప్రశ్నాకృతి



(1) (2) (3) (4)

58. ఒక వరుసలో సవితకు కుడి వైపు 15 మంది అమ్మాయిలు మరియు ఎడమ వైపు 11 మంది అమ్మాయిలు నిలబడ్డారు, ఇది వరుసలో మద్య భాగంలో నిలబడి ఉన్న కవిత ఎన్నవ క్రమములో ఉన్నది?

- (1) 12 వ
- (2) 13 వ
- (3) 14 వ
- (4) 15 వ

SPACE FOR ROUGH WORK

A	B	C	D	E	F	G	H	I	J	K	L	M	N	O	P	Q	R	S	T	U	V	W	X	Y
---	---	---	---	---	---	---	---	---	---	---	---	---	---	---	---	---	---	---	---	---	---	---	---	---

59. Students are standing for mass P.T. The number of rows and students in one row is same. If 15 students are standing in each row then what is the total number of students standing for mass P.T. ?
- (1) 225 (2) 150
(3) 250 (4) 125
60. John is standing with his back towards the East. He turns to his right hand two times at right angle. Which direction is he facing now ?
- (1) West (2) South
(3) East (4) North
61. Ahmed went 18 km in the west direction, then he went 11.5 km to the south, then he went 6.5 km to the east, then he went 11.5 km to the north and he stopped there. At what distance is he from the starting point ?
- (1) 11 km (2) 10.5 km
(3) 12.5 km (4) 11.5 km
62. Mandar was born on 7th July 2007 Saturday. Which day will it be on his second birthday ?
- (1) Monday (2) Tuesday
(3) Wednesday (4) Thursday
63. In a certain year if 15th August falls on Monday, then in the same year 6th September will fall on which day ?
- (1) Thursday (2) Monday
(3) Tuesday (4) Wednesday

SPACE FOR ROUGH WORK

A	B	C	D	E	F	G	H	I	J	K	L	M	N	O	P	Q	R	S	T	U	V	W	X	Y
---	---	---	---	---	---	---	---	---	---	---	---	---	---	---	---	---	---	---	---	---	---	---	---	---

59. కవాయిత్ కోసం ఎన్ని వరుసలు ఉన్నాయో అంతే విద్యార్థులు ప్రతి ఒక్క వరుసలో ఉన్నారు, అయితే ప్రతి ఒక్క వరుసలో 15 మంది విద్యార్థులు ఉంటే మైదానం పై కవా యిత్ కోసం ఎంత మంది విద్యార్థులు ఉంటారు?
- (1) 225 (2) 150
(3) 250 (4) 125
60. జాన్ తూర్పు దిశకు వెళ్తుంటే దిశను మార్చాడు, అతడు అతని యొక్క కుడి వైపున రెండు సార్లు లంబ కోణంగా తిరిగాడు, అయితే అతని ముఖము ఏ దిశ వైపుకు వచ్చింది?
- (1) పడమర (2) దక్షిణం
(3) తూర్పు (4) ఉత్తరం
61. అహమద్ పడమర వైపు 18 కి. మీ వెళ్ళాడు, తరువాత అతడు దక్షిణం వైపు 11.5 కి.మీ వెళ్ళాడు, అ తరువాత తూర్పు వైపు 6.5 కి.మీ వెళ్ళాడు. తరువాత ఉత్తరం వైపు 11.5 కి.మీ. వెళ్లి అగాడు అయితే అతను ప్రారంభ స్థానము నుండి ఎన్ని కి.మీ దూరంలో ఉన్నాడు?
- (1) 11 (2) 10.5
(3) 12.5 (4) 11.5
62. అజయ్ 7 జూలై 2007 లో శనివారం నాడు జన్మించాడు అయితే అతడి రెండవ జన్మ దినము ఏ వారము వచ్చును ?
- (1) సోమవారం (2) మంగళవారం
(3) బుధవారం (4) గురువారం
63. ఒక సంవత్సరంలో 15 ఆగస్ట్ సోమవారం ఉండితే అదే సంవత్సరంలో 6 సెప్టెంబర్ ఏ వారం వచ్చును ?
- (1) గురువారం (2) సోమవారం
(3) మంగళవారం (4) బుధవారం

SPACE FOR ROUGH WORK

A	B	C	D	E	F	G	H	I	J	K	L	M	N	O	P	Q	R	S	T	U	V	W	X	Y
---	---	---	---	---	---	---	---	---	---	---	---	---	---	---	---	---	---	---	---	---	---	---	---	---

Note for Q. 64 to Q. 68 : The term given in each question have same common characteristic. Select the correct option to match the group.

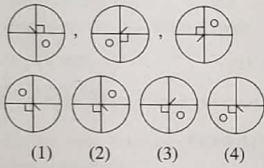
64. Iron, bricks, sand,

- (1) Cotton (2) Coal
(3) Thread (4) Cement

65. Brain, Lungs, Heart

- (1) Skin (2) Ears
(3) Stomach (4) Eyes

66.



67. 65, 83, 92

- (1) 54 (2) 87 (3) 47 (4) 39

68. 2520, 6273, 7092

- (1) 8085 (2) 2823 (3) 6018 (4) 8127

SPACE FOR ROUGH WORK

A	B	C	D	E	F	G	H	I	J	K	L	M	N	O	P	Q	R	S	T	U	V	W	X	Y
---	---	---	---	---	---	---	---	---	---	---	---	---	---	---	---	---	---	---	---	---	---	---	---	---

ప్ర. 64, మరియు 68 కొరకు సూచనలు : ప్రశ్న యొక్క ప్రారంభంలో మూడు వదాలు ఇవ్వబడినవి వాటికి కొన్ని గుణ దర్శాలు ఉన్నవి. అందువలన వాటిని ఒక సమూహం తయారు అగును, ఈ సమూహం కు చెందిన వదం ఇచ్చిన పర్యాయం నుండి ఎన్నుకోండి ?

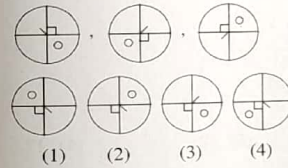
64. ఇనుము, ఇటుక, ఇసుక,

- (1) కర్పూరం (2) బొగ్గు
(3) దారము (4) సిమెంట్

65. మెదడు, ఊపిరితిత్తులు, హృదయం

- (1) చర్మం (2) చెవులు
(3) జాతర (4) కళ్ళు

66. ప్రశ్నాకృతి



67. 65, 83, 92

- (1) 54 (2) 87 (3) 47 (4) 39

68. 2520, 6273, 7092

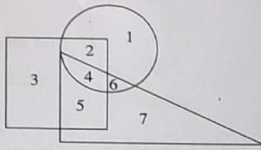
- (1) 8085 (2) 2823 (3) 6018 (4) 8127

SPACE FOR ROUGH WORK

ABCDE FGHIJ KLMNO PQRST UVWXY

69. Observe the venn diagram carefully and answer the following questions.

Which of the following number is seen only in the triangle ?



- (1) 7 (2) 6 (3) 5 (4) 4

70. Identify the correct option to replace the question mark in the given pattern.



- (1) 42 (2) 32 (3) 12 (4) 22

71. In a certain code language if $62 = 14$, $47 = 15$, $95 = 23$ then $38 = ?$

- (1) 11 (2) 14 (3) 36 (4) 8

72. In a certain code language if $6 = 14$, $7 = 17$ and $3 = 5$ then $4 = ?$

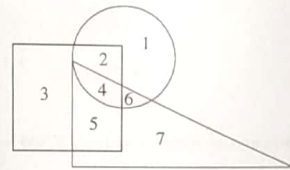
- (1) 4 (2) 6
(3) 2 (4) 8

SPACE FOR ROUGH WORK

ABCDE FGHIJ KLMNO PQRST UVWXY

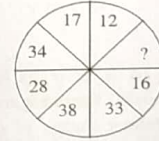
69. క్రింది ఆకృతి జాగ్రత్తగా చూడండి మరియు ప్రశ్న యొక్క జవాబు పర్యాయముల నుండి ఎన్నుకోండి.

కివలం త్రిభుజంలో ఉన్న అంకె ఏది ?



- (1) 7 (2) 6 (3) 5 (4) 4

70. ప్రశ్న చిహ్నం వద్ద వచ్చు సంఖ్య ను పర్యాయము నుండి ఎతేకండి మరియు రాయండి.



- (1) 42 (2) 32 (3) 12 (4) 22

71. ఒక సాంకేతిక భాషలో $62 = 14$, $47 = 15$, $95 = 23$ అయితే $38 =$ ఎంత ?

- (1) 11 (2) 14 (3) 36 (4) 8

72. ఒక సాంకేతిక భాషలో $6 = 14$, $7 = 17$ మరియు $3 = 5$ అయితే $4 =$ ఎంత ?

- (1) 4 (2) 6
(3) 2 (4) 8

SPACE FOR ROUGH WORK

A	B	C	D	E	F	G	H	I	J	K	L	M	N	O	P	Q	R	S	T	U	V	W	X	Y
---	---	---	---	---	---	---	---	---	---	---	---	---	---	---	---	---	---	---	---	---	---	---	---	---

73. In a certain code language if CAP = □○◎, CAT = ○◎□, PAN = △○□ then TAN = ?

- (1) □△◎ (2) □□○
(3) ◎△□ (4) △○◎

74. In a certain code language if KMD = < > v, KNM = ^ > <, NKD = v ^ > then MND = ?

[Note : The signs and alphabets may not be in the same order.]

- (1) ^ v > (2) ^ < >
(3) ^ v < (4) > < v

75. Teacher appeals to all students that as the yearly inspection is near all have to complete their assignment note books. Your assignment note book is completed, but you know that, one slow learner student of class has not completed his assignment note book, what will you do ?

- (1) I will tell my bench partner to give his assignment note book to that slow learner.
(2) I will help him to complete his assignment note book.
(3) I will not give my assignment note book to any one.
(4) I will tell the teacher that he misplaces the note books.

SPACE FOR ROUGH WORK

A	B	C	D	E	F	G	H	I	J	K	L	M	N	O	P	Q	R	S	T	U	V	W	X	Y
---	---	---	---	---	---	---	---	---	---	---	---	---	---	---	---	---	---	---	---	---	---	---	---	---

73. ఒక సాంకేతిక భాషలో 'కమల' = □○◎, 'నమక' = ○◎□, 'కలయ' = △○□ అయితే యమున వరము ఎలా వ్రాస్తావు ?
[సూచన : అక్షరాలు మరియు చిహ్నాల క్రమము ఒకే రకంగా ఉంటుందని చెప్పలేము]

- (1) □△◎ (2) □□○
(3) ◎△□ (4) △○◎

74. ఒక సాంకేతిక భాషలో 'కమడ' = < > v, 'కనమ' = ^ > <, 'నకడ' = v ^ >, అయితే 'మనడ' వరము ఎలా వ్రాస్తావు ?

[సూచన : అక్షరాలు మరియు చిహ్నాల క్రమము ఒకే రకంగా ఉంటుందని చెప్పలేము]

- (1) ^ v > (2) ^ < >
(3) ^ v < (4) > < v

75. పాఠశాల యొక్క వార్షిక తనిఖీ (ఇన్ స్పెక్షన్) దగ్గరకు వచ్చింది అందరు స్వాధ్యాయ పుస్తకాలు పూర్తి చేయమని ఉపాధ్యాయులు విద్యార్థులకు సూచనలు ఇచ్చారు. మీ స్వాధ్యాయ పుస్తకం పూర్తి ఉండి, మీ తరగతిలో ఒక మందబుద్ధి గల విద్యార్థి యొక్క స్వాధ్యాయ పుస్తకం పూర్తిగా లేదు, ఇది మీకు తిరిగివచ్చింది మీరు ఏమి చేయగలరు?

- (1) నా వ్రక్కన కూర్చున్న మిత్రుని స్వాధ్యాయ పుస్తకం ఇవ్వమని అంటారు.
(2) నేను అతడి స్వాధ్యాయ పుస్తకం పూర్తి చేయడానికి సహాయం చేస్తాను.
(3) నా స్వాధ్యాయ పుస్తకము ఎవరికీ కూడ ఇవ్వను
(4) ఆ విద్యార్థి పుస్తకము పొందిన ఉపాధ్యాయునితో చెప్తాను.

SPACE FOR ROUGH WORK

SPACE FOR ROUGH WORK