

ಹಿರಿಯ ಪ್ರಾಥಮಿಕ - ಪೂರ್ವ ವಿದ್ಯಾರ್ಥಿವೇತನ ಪರೀಕ್ಷೆ(5ನೆಯ ತರಗತಿ), ಫೆಬ್ರವರಿ 2020

ಆಸನ ಸಂಖ್ಯೆ

--	--	--	--	--	--	--	--	--	--

0	8	0	2
---	---	---	---

ಸೆಟ್

A

ಪೇಪರ್ ಸಂಖ್ಯೆ II

ಪುಟಗಳು: 32

ಸಮಯ: ಮಧ್ಯಾಹ್ನ 1:30 ರಿಂದ 3:00 ವರೆಗೆ

ಒಟ್ಟು ಅಂಕಗಳು: 150

ಮಾಧ್ಯಮ: ಆಂಗ್ಲ ಭಾಷೆ
ತೃತೀಯ ಭಾಷೆ ಮತ್ತು ಅರಿವು ಪರೀಕ್ಷೆ

ಪ್ರಶ್ನೆಗಳಿಗೆ ಉತ್ತರಿಸುವ ಮುನ್ನ ನಿಧಾನವಾಗಿ ಸೂಚನೆಗಳನ್ನು ಓದಿಕೊಳ್ಳಿ.

೧. ಈ ಪ್ರಶ್ನೆ ಪತ್ರಿಕೆಯಲ್ಲಿ ಎರಡು ವಿಭಾಗಗಳಿವೆ. ಮೊದಲನೆಯ ವಿಭಾಗದಲ್ಲಿ, ತೃತೀಯ ಭಾಷೆಯ 1 ರಿಂದ 25 ಪ್ರಶ್ನೆಗಳು ಇರುತ್ತವೆ ಮತ್ತು ಎರಡನೆಯ ವಿಭಾಗದಲ್ಲಿ ಅರಿವು ಪರೀಕ್ಷೆಯ 26 ರಿಂದ 75 ಪ್ರಶ್ನೆಗಳು ಇರುತ್ತವೆ. ಎಲ್ಲಾ 75 ಪ್ರಶ್ನೆಗಳು ಕಡ್ಡಾಯವಾಗಿವೆ.
೨. ಪ್ರತಿಯೊಂದು ಪ್ರಶ್ನೆ 2 ಅಂಕಗಳದ್ದಾಗಿದೆ.
೩. ಪ್ರಶ್ನೆ ಪತ್ರಿಕೆಯನ್ನು ಉತ್ತರಿಸಲು ಇರುವ ಸಮಯ 90 ನಿಮಿಷಗಳು ಮಾತ್ರ.
೪. ಉತ್ತರಗಳನ್ನು ಬರೆಯಲು ಒಂದು ಪ್ರತ್ಯೇಕ ಉತ್ತರ ಪತ್ರಿಕೆಯನ್ನು ನೀಡಲಾಗಿದೆ. ಪ್ರತಿಯೊಂದು ಪ್ರಶ್ನೆಗೆ ನಾಲ್ಕು ಪರ್ಯಾಯಗಳನ್ನು ನೀಡಲಾಗಿದೆ. ಅವುಗಳನ್ನು ಗಮನವಿಟ್ಟು ಓದಿಕೊಳ್ಳಿ. ಸರಿಯಾದ ಉತ್ತರವನ್ನು ಆಯ್ಕೆ ಮಾಡಿ, ಉತ್ತರ ಪತ್ರಿಕೆಯಲ್ಲಿ ಅದನ್ನು ಗುರುತು ಹಾಕಿ. ಉದಾಹರಣೆಗೆ:- ಒಂದುವೇಳೆ ಪ್ರಶ್ನೆ ಸಂಖ್ಯೆ 6 ರ ಸರಿಯಾದ ಪರ್ಯಾಯ 2 ಎಂದಾದರೆ, ನಿಮ್ಮ ಉತ್ತರವನ್ನು ಈ ಕೆಳಗಿನ ರೀತಿಯಾಗಿ ದಾಖಲಿಸಿ: ಪ್ರಶ್ನೆ ಸಂಖ್ಯೆ 6 - $\textcircled{1}\textcircled{2}\textcircled{3}\textcircled{4}$
೫. ಯಾವುದೇ ಬೇರೆ ರೀತಿಯಲ್ಲಿ ದಾಖಲಿಸಿದ ಉತ್ತರವನ್ನು ಗಣನೆಗೆ ತೆಗೆದುಕೊಳ್ಳಲಾಗುವುದಿಲ್ಲ. ಆ ರೀತಿಯ ಉತ್ತರಕ್ಕೆ 'ಶೂನ್ಯ' ಅಂಕ ನೀಡಲಾಗುತ್ತದೆ. $\textcircled{1}\textcircled{2}\textcircled{3}\textcircled{4}$
೬. ವೃತ್ತದಲ್ಲಿ ಬಣ್ಣ ತುಂಬಲು ನೀಡಿ ಅಥವಾ ಕಪ್ಪು ಬಾಲ್ ಪೆನ್ ಮಾತ್ರವೇ ಬಳಸಿ. ಪೆನ್ಸಿಲ್ ನಿಂದ ಬಣ್ಣ ತುಂಬಿದ ವೃತ್ತಗಳಿಗೆ ಅಂಕ ಕೊಡಲಾಗುವುದಿಲ್ಲ.
೭. ಒಂದುವೇಳೆ ಒಂದಕ್ಕಿಂತ ಹೆಚ್ಚಿನ ವೃತ್ತಗಳಿಗೆ ಬಣ್ಣ ತುಂಬಿದರೆ ಅಥವಾ ತಿದ್ದುಪಡಿ ಮಾಡಿದ್ದರೆ, ಆ ಉತ್ತರವನ್ನು ಗಣನೆಗೆ ತೆಗೆದುಕೊಳ್ಳಲಾಗುವುದಿಲ್ಲ.
೮. ಒಮ್ಮೆ ಉತ್ತರವನ್ನು ದಾಖಲಿಸಿದ ಮೇಲೆ ಅದನ್ನು ಬದಲಾಯಿಸಲಾಗುವುದಿಲ್ಲ.
೯. ಪ್ರತಿಯೊಂದು ಪುಟದ ಕೆಳಭಾಗದಲ್ಲಿ ಕೊಟ್ಟಿರುವ ಖಾಲಿ ಜಾಗ ಅಥವಾ ಪ್ರಶ್ನೆಪತ್ರಿಕೆಯ ಕೊನೆಯ ಪುಟದಲ್ಲಿ ಮಾತ್ರವೇ ಅಭ್ಯಾಸ ಕೆಲಸ ಮಾಡಬೇಕು.
೧೦. ಪರೀಕ್ಷೆಯ ಅವಧಿ ಸೀಮಿತವಾಗಿರುತ್ತದೆ, ಒಂದುವೇಳೆ ಯಾವುದೇ ಪ್ರಶ್ನೆಯನ್ನು ಉತ್ತರಿಸಲು ನಿಮಗೆ ಸಾಧ್ಯವಾಗದೇ ಇದ್ದಲ್ಲಿ, ದಯವಿಟ್ಟು ಮುಂದಿನ ಪ್ರಶ್ನೆಯತ್ತ ಸಾಗಿ. ನಿಮಗೆ ಕೊನೆಯಲ್ಲಿ ಸಮಯ ಉಳಿದರೆ, ಆ ಪ್ರಶ್ನೆಗಳನ್ನು ಪುನಃ ಉತ್ತರಿಸಲು ಪ್ರಯತ್ನಿಸಬಹುದು.
೧೧. ಒಂದುವೇಳೆ ನಿಮಗೆ ಯಾವುದೇ ಪ್ರಶ್ನೆ ಅಪೂರ್ಣವಾಗಿದೆ ಅಥವಾ ದೋಷವಿದೆ ಎಂದು ತಿಳಿದುಬಂದರೆ, ಆಗ ನಿಮ್ಮ ಮೇಲ್ವಿಚಾರಕರಿಗೆ ಅಥವಾ ಕೇಂದ್ರದ ಮುಖ್ಯಸ್ಥರೊಂದಿಗೆ ಏನನ್ನೂ ಕೇಳಬೇಡಿ.
೧೨. ಯಾವುದೇ ದೋಷ/ ತಪ್ಪು / ಆಕ್ಷೇಪಣೀಯ ವಿಷಯಗಳ ಕುರಿತಾಗಿ ಶಾಲೆ ಅಥವಾ ಪೋಷಕರು ಶಿಕ್ಷಣ ಅಧಿಕಾರಿ ಅಥವಾ ಬ್ಲಾಕ್ ಶಿಕ್ಷಣ ಅಧಿಕಾರಿಗೆ ಲಿಖಿತ ಅರ್ಜಿಯನ್ನು ಸಲ್ಲಿಸಬಾರದು, ಬದಲಾಗಿ ಈ ರೀತಿಯ ದೋಷ/ ತಪ್ಪು/ ಆಕ್ಷೇಪಣೀಯ ವಿಷಯಗಳನ್ನು ಆಯಾ ಶಾಲೆಯ ಲಾಗಿನ್ ಮುಖಾಂತರ ಮಾತ್ರವೇ ಆನ್‌ಲೈನ್‌ನಲ್ಲಿ ನೋಂದಾಯಿಸಬೇಕು.
೧೩. ಎಂಎಸ್‌ಸಿಇ ವೆಬ್‌ಸೈಟ್‌ನಲ್ಲಿ ಮಧ್ಯಂತರ ಉತ್ತರಗಳನ್ನು ಪ್ರಕಟಿಸಿದ 10 ದಿನಗಳೊಳಗಾಗಿ ದೋಷ / ತಪ್ಪು / ಆಕ್ಷೇಪಣೀಯ ವಿಷಯಗಳನ್ನು ಆನ್‌ಲೈನ್‌ನಲ್ಲಿ ನೋಂದಾಯಿಸಬೇಕು.
೧೪. ತಜ್ಜರ ಸಮಿತಿಯ ಸಲಹೆ ಮತ್ತು ನಿರ್ಧಾರವು ಪ್ರಶ್ನೆ ಪತ್ರಿಕೆಯಲ್ಲಿನ ಮುದ್ರಣ ದೋಷ ಅಥವಾ ಬೇರೆ ಇನ್ನಾವುದೇ ತಪ್ಪುಗಳಿಗೆ ಅನ್ವಯವಾಗುತ್ತದೆ.

SECTION-I

Q.1 to Q.3 : Read the passage carefully and answer the following questions.

A crow was very thirsty. It flew to a garden in search of water. There was a pot having a little water in it. So the crow put pebbles into the pot. The water rose up. The crow drank it and flew away.

1. Who was very thirsty?

- (1) cow
- (2) crow
- (3) parrot
- (4) fox

2. Select the correct option and complete the sentence.

The crow flew to a in search of water.

- (1) Garden
- (2) Well
- (3) House
- (4) School

3. What did the crow put into the pot?

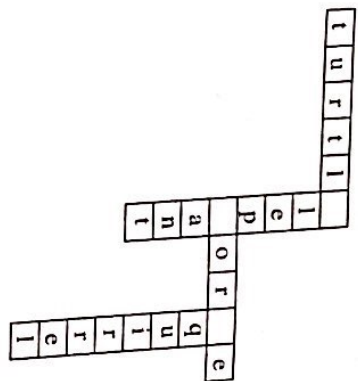
- (1) Leaves
- (2) Sticks
- (3) Pebbles
- (4) Money

4. If dogs: bark
then bears:

- (1) Snore
- (2) Squawk
- (3) Squeal
- (4) Scream

SPACE FOR ROUGH WORK

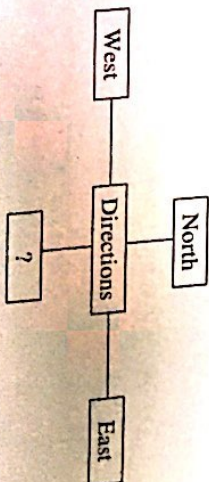
5. Select the correct option and solve the puzzle.



- (1) k, l, o
- (2) m, g, b
- (3) l, s, j
- (4) e, h, s

6. Select the correct alternative and fill in the box.

- (1) East west
- (2) South
- (3) South east
- (4) South west



7. Select the correct option and complete the sentence.
I will give it back to you

- (1) Yesterday
- (2) Last week
- (3) Tomorrow
- (4) Long long ago

SPACE FOR ROUGH WORK

8. Choose the correct request from the
My friend forgot his pen.
He said, ".....".

- (1) Please give me your pen. (2) He gave me his pen.
(3) I brought your pen. (4) Can I give my pen to you?

9. Select the correct option.

We should cover our mouth when
we

- (1) Share (2) Crawl (3) Sneeze (4) Climb

10. Look at the given picture and choose the correct conversation.



(1) A : Give me tomatoes.

B : Where's your bag?

(2) A : Do you like roasted corn cobs?

B : Oh! I love them.

(3) A : Hello uncle can you deliver the box today?

B : Sure.

(4) A : Have you tried these cakes?

B : This is a new cake shop.

SPACE FOR ROUGH WORK

11. Select the correct option.
Keep your hands on your

- (1) waste (2) west
(3) wait (4) waist

12. Find the odd pair.

- (1) August September (2) October November
(3) April May (4) June August

13. Find out the odd term

- (1) Thigh (2) Deer
(3) Thieves (4) Oxen

14. Select the correct option and complete the sentence.

Isha..... eat fruits.

- (1) doesnt (2) doesn't
(3) doesn't (4) doesn't

15. Select the correct option and complete the sentence.

We go by Auto-rickshaw

- (1) A (2) The
(3) An (4) No article

16. Find the odd group

- (1) king, ring, thing, sing (2) tall, fall, ball, call
(3) keep, peep, sheep, jeep (4) get, wet, not, let

SPACE FOR ROUGH WORK

17. Select the correct punctuation mark for the given sentence.

Does she go to school

- (1) Full stop (2) Comma
(3) Question mark (4) Capitalization

18.

Maha Sale
Sari and Kurti
Offer- Buy 1 Get 3
Rs. 1000/- only

The special offer is

- (1) Buy one get one
(2) Buy one get two
(3) Buy one get three
(4) Buy one get four

19. Choose the correct sentence showing proper position of a comma.

- (1) Master Master have, pity, on me.
(2) Master Master have, pity on, me.
(3) Master, Master, have pity on me.
(4) Master Master have pity, on me.

20. Solve the riddle.

I use scissors. I use a needle and thread. I make clothes from cloth. Who am I ?

- (1) Tailor (2) Potter (3) Cobbler (4) Jeweller

SPACE FOR ROUGH WORK

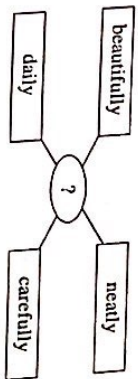
0802 / Kannada Set-A

6 of 32

P.T.O.

21. Find out the correct word to complete the given diagram.

- (1) Run
(2) Write
(3) Eat
(4) Sleep



22. Where should be the exclamation mark in the given sentence?
Select the correct option.

Good morning Konditba

- (1) after morning (2) after good
(3) before Konditba (4) after Konditba

23. Choose the correct option.

Many Many Happy Returns Of The Day !

This message is about.....

- (1) Wedding (2) New year
(3) Birthday (4) Journey

24. Select the correct alternative

As yellow as

- (1) Dawn (2) Rain
(3) Turmeric (4) Honey

25. Find the odd group.

- (1) cement, city, circus, centre (2) group, good, gate, ground
(3) brown, bucket, black, brinjial (4) kite, kangaroo, know, king

SPACE FOR ROUGH WORK

0802 / Kannada Set-A

7 of 32

P.T.O.

A	B	C	D	E	F	G	H	I	J	K	L	M	N	O	P	Q	R	S	T	U	V	W	X	Y
---	---	---	---	---	---	---	---	---	---	---	---	---	---	---	---	---	---	---	---	---	---	---	---	---

SECTION-II

INTELLIGENCE TEST

26. In the word 'ADJECTIVE' which letter is third to the left of the middle position letter ?

- (2) J
- (1) D
- (3) V
- (4) I

27.

A	B	C	D	E	F	G	H	I	J	K	L	M	N	O	P	Q	R	S	T	U	V	W	X	Y
---	---	---	---	---	---	---	---	---	---	---	---	---	---	---	---	---	---	---	---	---	---	---	---	---

In the given letters series, what is the position of the letter from start which is fourth to the left of the letter which is tenth from the right side of the series.

- (2) 12
- (1) 19
- (3) 20
- (4) 6

28. How many total vowels are there in the given sentence ?

'Rupa gave letter to Ram.'

- (2) 3
- (1) 5
- (3) 8
- (4) 9

29.

3.	2.	7.	1.	0.	5.	6.	6.	4.	3.	6.	1.	7.	3.	3.	2
----	----	----	----	----	----	----	----	----	----	----	----	----	----	----	---

In the given number series, what is the difference between the square of the number which is 6th from left and which is 7th from right side ?

- (2) 0
- (1) 34
- (3) 8
- (4) 16

SPACE FOR ROUGH WORK

A	B	C	D	E	F	G	H	I	J	K	L	M	N	O	P	Q	R	S	T	U	V	W	X	Y
---	---	---	---	---	---	---	---	---	---	---	---	---	---	---	---	---	---	---	---	---	---	---	---	---

SECTION-II

INTELLIGENCE TEST

26. 'ಶ್ರವಣ ವಿಠಲನ ದೇವತೆ' ಈ ಶಬ್ದದ ಮಧ್ಯಭಾಗದಲ್ಲಿರುವ ಅಕ್ಷರದ ಎಡಗಡೆಯಿಂದ ಮೂರನೆಯ ಕ್ರಮದಲ್ಲಿದ್ದು ಅಕ್ಷರ ಯಾವುದು?

- 1) ಢಾ
- 2) ಡ
- 3) ಫ
- 4) ಢ

27.

A	B	C	D	E	F	G	H	I	J	K	L	M	N	O	P	Q	R	S	T	U	V	W	X	Y
---	---	---	---	---	---	---	---	---	---	---	---	---	---	---	---	---	---	---	---	---	---	---	---	---

ಈ ಪದಗಳ ಅಕ್ಷರ ಪದಗಳನ್ನು ಲಿಪಿಬದಲಿಸಿದ ಪದಗಳನ್ನು ಅಕ್ಷರದ ಎಡಗಡೆಯಿಂದ ಮೂರನೆಯ ಕ್ರಮದಲ್ಲಿದ್ದು ಅಕ್ಷರ ಯಾವುದು?

- 1) 19
- 2) 12
- 3) 20
- 4) 6

28. 'ಪುಷ್ಪವನು ಕನ್ನಡದ ರಾಜ್ಯದ ಮೊದಲ ಮಹಿಳಾ ಮುಖ್ಯಮಂತ್ರಿ' ಈ ಪದಗಳಲ್ಲಿ ಎಷ್ಟು ಅಕ್ಷರಗಳಿವೆ?

- 1) 5
- 2) 3
- 3) 8
- 4) 9

29.

3.	2.	7.	1.	0.	5.	6.	6.	4.	3.	6.	1.	7.	3.	3.	2.
----	----	----	----	----	----	----	----	----	----	----	----	----	----	----	----

ಈ ಸಂಖ್ಯಾ ಸರಣಿಯಲ್ಲಿ ಎಡಗಡೆಯಿಂದ ಆರನೆಯ ಅಂಕದ ಮೇಲಿನ ಅಂಕದಿಂದ ಎರಡನೆಯ ಅಂಕದ ಮೇಲಿನ ಅಂಕದ ವ್ಯತ್ಯಾಸವೇನು?

- 1) 34
- 2) 0
- 3) 8
- 4) 16

SPACE FOR ROUGH WORK

ABCDEFGHIJKLMN OPQRST UVWXYZ

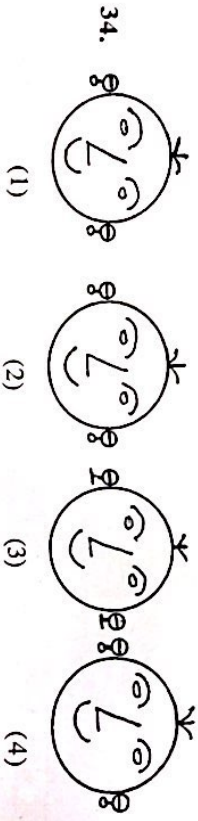




Note for : Q. 30 to Q. 34 : [Find odd man out]

30. (1) Puppet show
(2) Television
(3) Computer
(4) Cinema

31. (1) May
(2) July
(3) June
(4) August

32. (1) 2651
(2) 2246
(3) 5324
(4) 6215

33. (1) 9338
(2) 7276
(3) 9295
(4) 4279

34. 
(1)  (2) 
(3)  (4) 

35. In the given number series, select the correct option to replace the question mark.

- 3, 4, 7, 10, 15, 22, 31, ?
(1) 46
(2) 40
(3) 44
(4) 42

SPACE FOR ROUGH WORK

0802 / Kannada Set-A

10 of 32

P.T.O.

ABCDEFGHIJKLMN OPQRST UVWXYZ

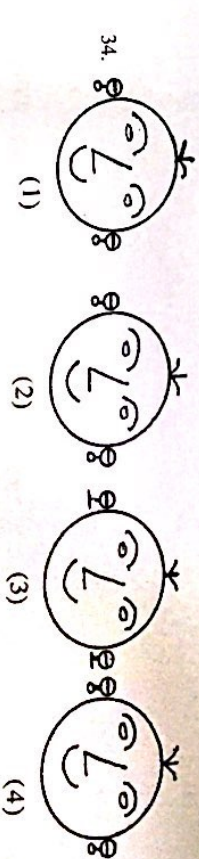




ಸೂಚನೆ: ಪ್ರಶ್ನೆ 30 ರಿಂದ 34 ರವರೆಗೆ : ಸರಿಯಾದ ಉತ್ತರವನ್ನು ಆಯ್ಕೆಮಾಡಿ.

30. (1) ಕುರಿಯಾಟ
(2) ದೂರದರ್ಶನ
(3) ಕಂಪ್ಯೂಟರ್
(4) ಸಿನಿಮಾ

31. (1) ಮೇ
(2) ಜುಲೈ
(3) ಜೂನ್
(4) ಆಗಸ್ಟ್

32. (1) 2651
(2) 2246
(3) 5324
(4) 6215

33. (1) 9338
(2) 7276
(3) 9295
(4) 4279

34. 
(1)  (2) 
(3)  (4) 

35. ಕೆಳಗಿನ ಸಂಖ್ಯಾ ಸರಣಿಯಲ್ಲಿ ಪ್ರಶ್ನಾರ್ಹಕ್ಕೆ ಸರಿಯಾದ ಸಂಖ್ಯೆಯನ್ನು ಆಯ್ಕೆಮಾಡಿ.

- 3, 4, 7, 10, 15, 22, 31, ?
(1) 46
(2) 40
(3) 44
(4) 42

SPACE FOR ROUGH WORK

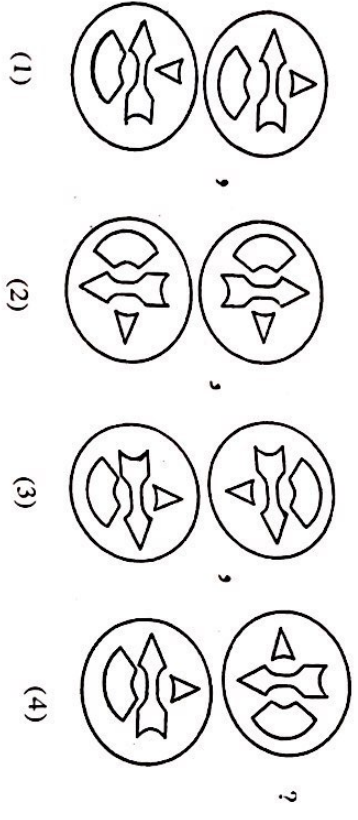
0802 / Kannada Set-A

11 of 32

P.

ABCDEFGHIJKLMN OPQRST UVWXYZ

36. In the given series of figures, select the correct option to replace the question mark.



37. Select the wrong term in the given number series.

- 2, 7, 28, 64, 126, 215
- (1) 28
- (2) 64
- (3) 215
- (4) 7

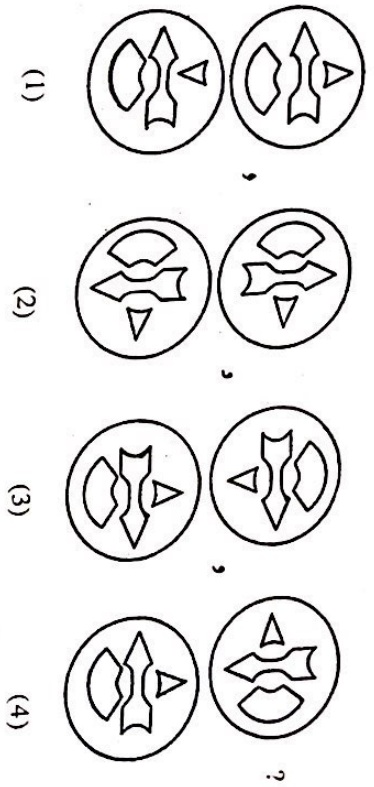
38. Select the correct option to replace the question mark in the given number series.

- 14, 16, 19, 24, 31, 42, 55 ?
- (1) 65
- (2) 72
- (3) 75
- (4) 70

SPACE FOR ROUGH WORK

ABCDEFGHIJKLMN OPQRST UVWXYZ

36. ಕೆಳಗಿನ ಅಕ್ಷರಗಳ ಸರಣಿಯಲ್ಲಿ, ಕೆಳಗಿನ ಯಾವ ಅಕ್ಷರವು ಕೊಟ್ಟಿರುವ ಸ್ಥಾನದಲ್ಲಿ ಅಕ್ಷರವನ್ನು ಬದಲಿಸಲು ಬೇಕು.



37. ಕೆಳಗಿನ ಸಂಖ್ಯಾ ಸರಣಿಯಲ್ಲಿ, ತಪ್ಪಾದ ಸಂಖ್ಯೆಯನ್ನು ಗುರುತಿಸಿ.

- 2, 7, 28, 64, 126, 215
- (1) 28
- (2) 64
- (3) 215
- (4) 7

38. ಕೆಳಗಿನ ಸಂಖ್ಯಾ ಸರಣಿಯಲ್ಲಿ, ಕೊಟ್ಟಿರುವ ಸಂಖ್ಯೆಯನ್ನು ಬದಲಿಸಲು ಬೇಕಾದ ಸಂಖ್ಯೆಯನ್ನು ಆಯ್ಕೆ ಮಾಡಿ.

- 14, 16, 19, 24, 31, 42, 55, ?
- (1) 65
- (2) 72
- (3) 75
- (4) 70

SPACE FOR ROUGH WORK

A B C D E F G H I J K L M N O P Q R S T U V W X Y

39. Select the correct option to replace the question mark in the given groups of signs.

$< > + \times +, > + \times + <, + \times + < >, \times + < > +, ?$

(1) $< > + \times +$ (2) $+ \times + < >$

(3) $+ \times < > +$ (4) $+ < > + \times$

40. If Deer is called as Rabbit, Rabbit is called as Shekaroo, Shekaroo is called as Porcupise, Porcupise is called as Tiger, Tiger is called as Bear then which animal is the state animal ?

(1) Shekaroo (2) Tiger

(3) Rabbit (4) Porcupise

41. The sum of ages of Mother, Father and Son three years ago was 73. What will be the sum of their ages five years later ?

(1) 97 (2) 75

(3) 78 (4) 88

42. Anushka's score of marks is more than Arya but less than Aaboli. Shevanti's score is same as Arya but to more than Chameli. Who has scored the highest marks ?

(1) Arya (2) Aaboli

(3) Shevanti (4) Anushka

SPACE FOR ROUGH WORK

A B C D E F G H I J K L M N O P Q R S T U V W X Y

39. ಕೆಲಗೆ ಕೂಟ್ಟಿ ಚಿಹ್ನೆಗಳ ಮೂಲಕಯಲ್ಲಿ ಪ್ರಶ್ನಾರ್ಹಕ ಚಿಹ್ನೆಯ ಸ್ಥಳದಲ್ಲಿ ಯಾವ ಸಂಖ್ಯೆ ಉಪಯುಕ್ತವು ಎಂಬುದನ್ನು ಪರಿಗಣಿಸಿರಿಂದ ಆಯ್ಕೆ ಮಾಡಿ.

$< > + \times +, > + \times + <, + \times + < >, \times + < > +, ?$

(1) $< > + \times +$ (2) $+ \times + < >$

(3) $+ \times < > +$ (4) $+ < > + \times$

40. ಭರಗೆ ಮೂಲ ವಾಡು, ಮೂಲಕೆ ಹಲಕೂಡು, ಹಲಗೆ ಆಳು ವಾಡು, ಆಳಗೆ ಹೂವವಾಡು, ಹೂವಕ್ಕೆ ಕರಡಿ ವಾಡು ಕೆಲವೆ, ಉತ್ತರ ರಾಷ್ಟ್ರೀಯ ಪ್ರಾಣಿ ಯಾವುದು ?

(1) ಹೂ

(2) ಹೂ

(3) ಮೂ

(4) ಆಳು

41. ತಾಯಿ, ತಂದೆ, ಮಗ ಇವರ ವಯಸ್ಸು ಮೂರು ವರ್ಷಗಳ ಹಿಂದಿನ ಮಕ್ಕಳ ವಯಸ್ಸು 73 ವರ್ಷವಿತ್ತು. ಹಾಗಾದರೆ ಐದು ವರ್ಷಗಳ ನಂತರ ಆ ಮೂವರ ಮಕ್ಕಳ ವಯಸ್ಸಿನ ಒಟ್ಟು ವರ್ಷಗಳಾಗುವುದು ?

(1) 97

(2) 75

(3) 78

(4) 88

42. ಅನುಷ್ಕಾಳಿಗೆ ಅರ್ಧ ಗಂಟೆ ಹೆಚ್ಚು ಆದರೆ ಶ್ರೀಯುಗೋತ ಕಡಿಮೆ ಸುರಾಳು ಮೂರನೇ. ಶ್ರೀಯುಗೋತ ಅರ್ಧಗಂಟೆ ಆದರೆ ಶ್ರೀಯುಗೋತ ಗಂಟೆ ಹೆಚ್ಚು ಸುರಾಳು ಮೂರನೇ. ಹಾಗಾದರೆ ಎಲ್ಲಕ್ಕಿಂತಲೂ ಹೆಚ್ಚು ಸುರಾಳು ಯಾರಿಗೆ ಮೂರನೇ ?

(1) ಅರ್ಧ

(2) ಶ್ರೀಯು

(3) ಶ್ರೀಯು

(4) ಅನುಷ್ಕ

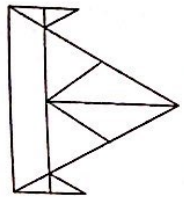
SPACE FOR ROUGH WORK

ABCDEF GHIJK LLMNO PQRST UVWXY

43. Akshay said to Aarti 'your mother's father is my father's father.' What is the relation of Akshay with Aarti's mother ?

- (1) Son of husband's brother
- (2) Uncle
- (3) Grandson
- (4) Son of husband's sister

44. How many total number of triangles are there in the adjacent figure ?



- (1) 14
- (2) 15
- (3) 10
- (4) 12

45. In the figure given below how many total number of quadrilaterals are there ?



- (1) 9
- (2) 6
- (3) 18
- (4) 15

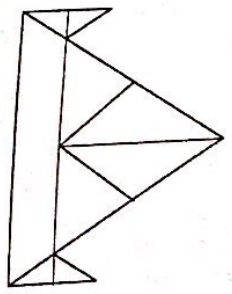
SPACE FOR ROUGH WORK

ABCDE FGHJK LLMNO PQRST UVWXY

43. ಅಕ್ಷಯನು ಅರತಿಗೆ ಹೇಗೆ ಹೇಳುತ್ತಾನೆ. " ನನ್ನ ತಾಯಿಯ ತಂದೆಯೂ ನನ್ನ ತಂದೆಯ ತಂದೆ ಇವರೂ ". ಅವರರ ಅಕ್ಷಯನಿಗೆ ಅರತಿಯ ತಂದೆ ಯಾರು?

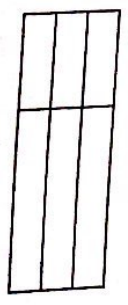
- (1) ಚಳವಳಿ
- (2) ಅಣ್ಣ
- (3) ಅಕ್ಕ
- (4) ಸೋದರತ್ತ

44. ಕೆಳಗಿನ ಚಿತ್ರದಲ್ಲಿ ಎಷ್ಟು ಚಿಕ್ಕ ತ್ರಿಕೋನಗಳಿವೆ?



- (1) 14
- (2) 15
- (3) 10
- (4) 12

45. ಕೆಳಗಿನ ಚಿತ್ರದಲ್ಲಿ ಎಷ್ಟು ಚಿಕ್ಕ ಚೌಕಗಳಿವೆ?





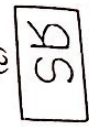

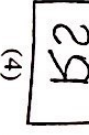
- (1) 9
- (2) 6
- (3) 18
- (4) 15

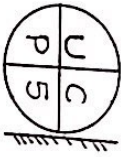
SPACE FOR ROUGH WORK

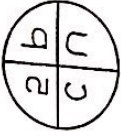



A B C D E F G H I J K L M N O P Q R S T U V W X Y

Note for Q. 46 and Q. 47 : Select the correct option to match the mirror image of the question figure.

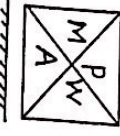
46. Question Figure  Answer Figure





(1)  (2)  (3)  (4) 


47. Question Figure  Answer Figure





(1)  (2)  (3)  (4) 

Note for Q. 48 and Q. 49 : Select the correct option to match the water image of the question figure.

48. Question Figure  Answer Figure

(1)  (2)  (3)  (4) 


49. Question Figure  Answer Figure

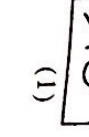
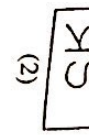

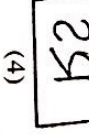
(1)  (2)  (3)  (4) 


SPACE FOR ROUGH WORK

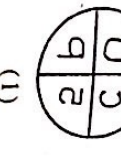
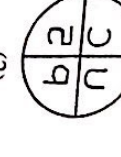
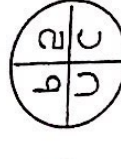
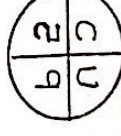
A B C D E F G H I J K L M N O P Q R S T U V W X Y

Note for Q. 46 and Q. 47 : Select the correct option to match the mirror image of the question figure.


46. ಪ್ರಶ್ನೆಚಿತ್ರ  ಉತ್ತರ ಚಿತ್ರ

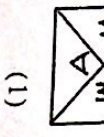

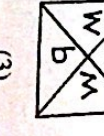

(1)  (2)  (3)  (4) 


47. ಪ್ರಶ್ನೆಚಿತ್ರ  ಉತ್ತರ ಚಿತ್ರ





(1)  (2)  (3)  (4) 

Note for Q. 48 and Q. 49 : Select the correct option to match the water image of the question figure.

48. ಪ್ರಶ್ನೆಚಿತ್ರ  ಉತ್ತರ ಚಿತ್ರ

(1)  (2)  (3)  (4) 

49. ಪ್ರಶ್ನೆಚಿತ್ರ  ಉತ್ತರ ಚಿತ್ರ

(1)  (2)  (3)  (4) 

SPACE FOR ROUGH WORK

A	B	C	D	E	F	G	H	I	J	K	L	M	N	O	P	Q	R	S	T	U	V	W	X	Y
---	---	---	---	---	---	---	---	---	---	---	---	---	---	---	---	---	---	---	---	---	---	---	---	---

Note for Q. 50 to Q. 54 : There exists a relation between first and second term, similar relation holds true for third and fourth term. Accordingly select the correct option to replace the question mark.





50. Crops : farm :: fruits : ?

- (1) Orchard
- (2) Market
- (3) Mall
- (4) Shop

51. Sparrow : noun :: went : ?

- (1) Pronoun
- (2) Verb
- (3) Noun
- (4) Adjective

52.  :  ::  : ?

- (1) 
- (2) 
- (3) 
- (4) 

53. 5 : 12 :: 6 : ?

- (1) 18
- (2) 15
- (3) 12
- (4) 21

54. 4396 : 6475 :: 3485 : ?

- (1) 4595
- (2) 4574
- (3) 5564
- (4) 4564

SPACE FOR ROUGH WORK

A	B	C	D	E	F	G	H	I	J	K	L	M	N	O	P	Q	R	S	T	U	V	W	X	Y
---	---	---	---	---	---	---	---	---	---	---	---	---	---	---	---	---	---	---	---	---	---	---	---	---




Note for Q. 50 to Q. 54 : There exists a relation between first and second term, similar relation holds true for third and fourth term. Accordingly select the correct option to replace the question mark.





50. ಕೃಷಿ : ಹೂ :: ಫಲ : ?

- (1) ಹೂವು
- (2) ಮಾರುಕಟ್ಟೆ
- (3) ಮಲ್ಲ
- (4) ದುಕಾನ್

51. ಸಪ್ತಾಹ : ನಾಮಪದ :: ವೇಗ : ?

- (1) ಸರ್ವನಾಮ
- (2) ಕ್ರಿಯಾಪದ
- (3) ನಾಮಪದ
- (4) ವಿಭಜನಾ

52.  :  ::  : ?

- (1) 
- (2) 
- (3) 
- (4) 

53. 5 : 12 :: 6 : ?

- (1) 18
- (2) 15
- (3) 12
- (4) 21

54. 4396 : 6475 :: 3485 : ?

- (1) 4595
- (2) 4574

SPACE FOR ROUGH WORK

A B C D E F G H I J K L M N O P Q R S T U V W X Y

55. Which of the following action of Raju is correct, when he saw Garbage lying at the place where small children were playing ?

- (1) He picked up the garbage and threw it into the dustbin.
- (2) He neglected it.
- (3) He pushed out all the children from that place.
- (4) He purposely tell the security person to pick up the garbage.

Note for Q. 56 and Q. 57 : Select the figure perfectly matching to the question figure from the given options.

56. Question Figure



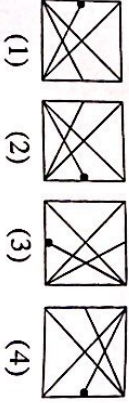
Answer Figure



57. Question Figure



Answer Figure



58. In a row there are 15 girls to the right side of Savita and 11 girls to her left, if she is standing at the middle then what is her position number ?

- (1) 12th
- (2) 13th
- (3) 14th
- (4) 15th

SPACE FOR ROUGH WORK

A B C D E F G H I J K L M N O P Q R S T U V W X Y

55. ಯಾವ ಸ್ಥಳದಲ್ಲಿ ಚಿಕ್ಕ ಮಕ್ಕಳು ಆಟವಾಡುತ್ತಾರೋ ಅಲ್ಲಿ ಬಿದ್ದಿರುವ ಕಸವನ್ನು ಸೇಗಡಿ ರಾಜು ಕಂಡು ಯಾವ ಕ್ರಿಯೆಯು ಯೋಗ್ಯವಾಗಿದೆ ಎಂಬುದನ್ನು ಕೆಳಗೆ ಪರ್ಯಾಯಗಳಿಂದ ಆಯ್ಕೆ ಮಾಡಿ.

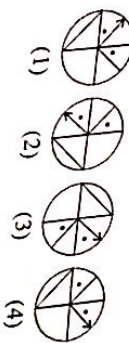
- (1) ಅಪ್ಪಳನ್ನು ಅರಗಿ ಕಸದ ಪೆಟ್ಟಿಗೆಯಲ್ಲಿ ಚೆಲ್ಲುವನು
- (2) ಮರಳಿಸುವನು
- (3) ಎಲ್ಲಾ ಮಕ್ಕಳಿಗೆ ಅಲ್ಲಿಂದ ಓಡಿಸುವನು
- (4) ಅಲ್ಲಿರುವ ಕಾವಲುಗಾರನಿಗೆ ಅಂಕಲು ಹೇಳುವನು

ಸೂಚನೆ: ಪ್ರಶ್ನೆ 56 ರಿಂದ 57 : ಕೆಳಗೆ ಪ್ರಶ್ನೆಗಳಿಗೆ ಸಂಬಂಧಿಸಿದ ಯೋಗ್ಯವಾದ ಆಕೃತಿಯನ್ನು ಕೆಳಗೆ ಪರ್ಯಾಯಗಳಿಂದ ಆಯ್ಕೆ ಮಾಡಿ.

56. ಪ್ರಶ್ನೆಗಳಿಗೆ



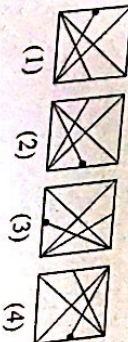
Answer Figure



57. ಪ್ರಶ್ನೆಗಳಿಗೆ



Answer Figure



58. ಒಂದು ಸಾಲಿನಲ್ಲಿ ಸವಿತಾಳ ಬಲಗಡೆ 15 ಮಕ್ಕಳು ಮತ್ತು ಹಾಗೂ ಎಡಗಡೆ 11 ಮಕ್ಕಳು ಇದ್ದಾರೆ. ಆದರೆ ಸವಿತಾಳ ಮಧ್ಯಸ್ಥಾನದಲ್ಲಿರುವ ಕ್ರಮವೇ ಎಷ್ಟು?

- (1) 12 ನೆಯ
- (2) 13 ನೆಯ
- (3) 14 ನೆಯ
- (4) 15 ನೆಯ

SPACE FOR ROUGH WORK

ABCDEFGHIJKL MNOPQRST UVWXYZ

59. Students are standing for mass P.T. The number of rows and students in one row is same. If 15 students are standing in each row then what is the total number of students standing for mass P.T. ?

- (1) 225
- (2) 150
- (3) 250
- (4) 125

60. John is standing with his back towards the East. He turns to his right hand two times at right angle. Which direction is he facing now ?

- (1) West
- (2) South
- (3) East
- (4) North

61. Ahmed went 18 km in the west direction, then he went 11.5 km to the south, then he went 6.5 km to the east, then he went 11.5 km to the north and he stopped there. At what distance is he from the starting point ?

- (1) 11 km
- (2) 10.5 km
- (3) 12.5 km
- (4) 11.5 km

62. Mandar was born on 7th July 2007 Saturday. Which day will it be on his second birthday ?

- (1) Monday
- (2) Tuesday
- (3) Wednesday
- (4) Thursday

63. In a certain year if 15th August falls on Monday, then in the same year 6th September will fall on which day ?

- (1) Thursday
- (2) Monday
- (3) Tuesday
- (4) Wednesday

SPACE FOR ROUGH WORK

ABCDEFGHIJKL MNOPQRST UVWXYZ

59. ಕರ್ನಾಟಕ ಮಾಹಿತ್ಯಾಭಿವೃದ್ಧಿ ಅಧ್ಯಯನ ಕೇಂದ್ರವು 15 ಮಕ್ಕಳು ಪ್ರತಿಯೊಂದು ಸಾಲಿನಲ್ಲಿಯೂ 15 ಮಕ್ಕಳನ್ನು ಪ್ರಯೋಗಿಸುತ್ತದೆ. ಕರ್ನಾಟಕ ಮಾಹಿತ್ಯಾಭಿವೃದ್ಧಿ ಅಧ್ಯಯನ ಕೇಂದ್ರವು 15 ಮಕ್ಕಳನ್ನು ಪ್ರಯೋಗಿಸುತ್ತದೆ. ಒಟ್ಟು ಮಕ್ಕಳ ಸಂಖ್ಯೆ ಎಷ್ಟು ?

- (1) 225
- (2) 150
- (3) 250
- (4) 125

60. ಜಯಶಂಕರ್ ಮನವರೇಡ್ ಕಡೆಗೆ ಪಶ್ಚಿಮ ದಿಕ್ಕಿನಿಂದ ನಿಂತು ಸೂರ್ಯನನ್ನು ನೋಡುತ್ತಾನೆ. ಆದರೆ ಮುಂದೆ ಎರಡು ಬಾರಿ 90 ಡಿಗ್ರಿ ತಿರುಗಿದರೆ ಅವನ ಮುಂದೆ ಯಾವ ದಿಕ್ಕಿನಿಂದ ನಿಲ್ಲುತ್ತಾನೆ ?

- (1) ಪಶ್ಚಿಮ
- (2) ಪೂರ್ವ
- (3) ಪೂರ್ವ
- (4) ಪಶ್ಚಿಮ

61. ಒಬ್ಬನು ಪಶ್ಚಿಮಕ್ಕೆ 18 ಕಿಲೋಮೀಟರ್ ಹೋದನು. ನಂತರ ಅವನು ದಕ್ಷಿಣಕ್ಕೆ 11.5 ಕಿಲೋಮೀಟರ್ ಹೋದನು. ನಂತರ ಪೂರ್ವಕ್ಕೆ 6.5 ಕಿಲೋಮೀಟರ್ ಹೋದನು. ನಂತರ ಉತ್ತರಕ್ಕೆ 11.5 ಕಿಲೋಮೀಟರ್ ಹೋದನು. ಆಗ ಅವನು ಕೇಂದ್ರ ಬಿಂದುವಿನಿಂದ ಎಷ್ಟು ದೂರದಲ್ಲಿದ್ದಾನೆ ?

- (1) 11
- (2) 10.5
- (3) 12.5
- (4) 11.5

62. ರಾಜಕೀಯದ ದಿನಕ್ಕೆ 7 ಮಾರ್ಚ್ 2007ರಂದು ಶನಿವಾರ ಆಯಿತು. ಹಾಗಾದರೆ ಅದೇ ದಿನಕ್ಕೆ ಎಷ್ಟು ದಿನಗಳ ಬರುವುದು ?

- (1) ಸೋಮವಾರ
- (2) ಮಂಗಳವಾರ
- (3) ಬುಧವಾರ
- (4) ಗುರುವಾರ

63. ಒಂದು ವರ್ಷ 15 ಆಗಸ್ಟ್ ಸೋಮವಾರ ಇತ್ತು. ಹಾಗಾದರೆ ಅದೇ ವರ್ಷದಲ್ಲಿ 6 ಸೆಪ್ಟೆಂಬರ್ ಯಾವ ದಿನವನ್ನು ಆಯಿತು ?

- (1) ಗುರುವಾರ
- (2) ಸೋಮವಾರ
- (3) ಮಂಗಳವಾರ
- (4) ಬುಧವಾರ

SPACE FOR ROUGH WORK

A B C D E F G H I J K L M N O P Q R S T U V W X Y

Note for Q. 64 to Q. 68 : The term given in each question have same common characteristic. Select the correct option to match the group.

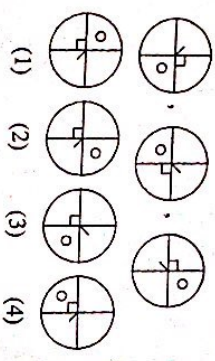
64. Iron, bricks, sand,

- (1) Cotton
- (2) Coal
- (3) Thread
- (4) Cement

65. Brain, Lungs, Heart

- (1) Skin
- (2) Ears
- (3) Stomach
- (4) Eyes

66.



- 67. 65, 83, 92
 - (1) 54
 - (2) 87
 - (3) 47
 - (4) 39
- 68. 2520, 6273, 7092
 - (1) 8085
 - (2) 2823
 - (3) 6018
 - (4) 8127

SPACE FOR ROUGH WORK

0802 / Kannada Set-A

26 of 32

P.T.O.

A B C D E F G H I J K L M N O P Q R S T U V W X Y

Note for Q. 64 to Q. 68 : The term given in each question have same common characteristic. Select the correct option to match the group.

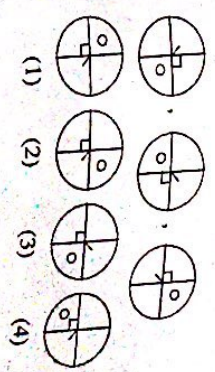
64. ಕಲ್ಲು, ಇಟ್ಟಿಗೆ, ಉರುಕು

- (1) ಪತ್ರಿಕೆ
- (2) ಇವುಳು
- (3) ನೂಲಿನ ಬೆಲೆ
- (4) ಸಿಮೆಂಟು

65. ಮಿದುಳು, ಫುಫುಗಳು, ಹೃದಯ

- (1) ತ್ವಣಿ
- (2) ಕಿವಿ
- (3) ಪರಿಸರ
- (4) ಕಿವುಕೆ

66.



- 67. 65, 83, 92
 - (1) 54
 - (2) 87
 - (3) 47
 - (4) 39
- 68. 2520, 6273, 7092
 - (1) 8085
 - (2) 2823
 - (3) 6018
 - (4) 8127

SPACE FOR ROUGH WORK

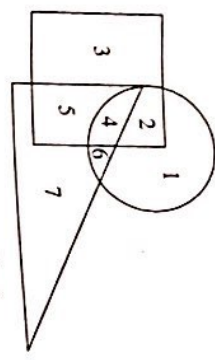
0802 / Kannada Set-A

27 of 32

P.T.O.

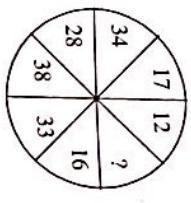
ABCDE FGHIJ KLMNO PQRST UVWXY

69. Observe the venn diagram carefully and answer the following questions.
Which of the following number is seen only in the triangle ?



- (1) 7 (2) 6 (3) 5 (4) 4

70. Identify the correct option to replace the question mark in the given pattern.



- (1) 42 (2) 32 (3) 12 (4) 22

71. In a certain code language if 62 = 14, 47 = 15, 95 = 23 then 38 = ?

- (1) 11 (2) 14 (3) 36 (4) 8

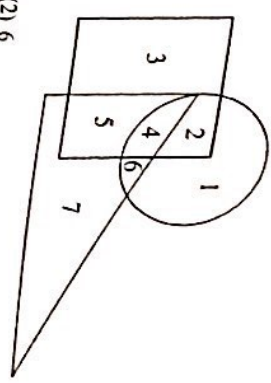
72. In a certain code language if 6 = 14, 7 = 17 and 3 = 5 then 4 = ?

- (1) 4 (2) 6 (3) 2 (4) 8

SPACE FOR ROUGH WORK

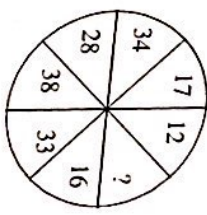
ABCDE FGHIJ KLMNO PQRST UVWXY

69. ಕೆಳಗಿನ ಚಿತ್ರ 3 ಸಂಕೇತಗಳನ್ನು ತೋರಿಸುತ್ತದೆ. ಈ ಚಿತ್ರಗಳನ್ನು ನೋಡಿದಾಗ ಯಾವ ಸಂಖ್ಯೆ ಮಾತ್ರ ತ್ರಿಭುಜದಲ್ಲಿ ಮಾತ್ರ ಕಂಡುಬರುತ್ತದೆ?



- (1) 7 (2) 6 (3) 5 (4) 4

70. ಕೆಳಗೆ ನೀಡಲಾದ ಸಂಖ್ಯೆಗಳಲ್ಲಿ ಯಾವ ಸಂಖ್ಯೆಯನ್ನು ಕೊಡಲಾದ ಮಾದರಿಯಂತೆ ಆಯ್ಕೆ ಮಾಡಿ.



- (1) 42 (2) 32 (3) 12 (4) 22

71. ಒಂದು ಸಂಕೇತ ಭಾಷೆಯಲ್ಲಿ 62 = 14, 47 = 15, 95 = 23 ಆದರೆ 38 = ಎಷ್ಟು ?

- (1) 11 (2) 14 (3) 36 (4) 8

72. ಒಂದು ಸಂಕೇತ ಭಾಷೆಯಲ್ಲಿ 6 = 14, 7 = 17 ಮತ್ತು 3 = 5 ಆದರೆ 4 = ಎಷ್ಟು ?

- (1) 4 (2) 6 (3) 2 (4) 8

SPACE FOR ROUGH WORK

A	B	C	D	E	F	G	H	I	J	K	L	M	N	O	P	Q	R	S	T	U	V	W	X	Y
---	---	---	---	---	---	---	---	---	---	---	---	---	---	---	---	---	---	---	---	---	---	---	---	---

73. In a certain code language if CAP = □○○○, CAT = ○○○□, PAN = △○○ then TAN = ?

- (1) □△○
- (2) □□○
- (3) ○△□
- (4) △○○

74. In a certain code language if KMD = < > v, KNM = ^ > <, NKD = v ^ > then MND = ?

[Note : The signs and alphabets may not be in the same order.]

- (1) ^ v >
- (2) ^ < >
- (3) ^ v <
- (4) > < v

75. Teacher appeals to all students that as the yearly inspection is near all have to complete their assignment note books. Your assignment note book is completed, but you know that, one slow learner student of class has not completed his assignment note book, what will you do ?

- (1) I will tell my bench partner to give his assignment note book to that slow learner.
- (2) I will help him to complete his assignment note book.
- (3) I will not give my assignment note book to any one.
- (4) I will tell the teacher that he misplaces the note books.

SPACE FOR ROUGH WORK

A	B	C	D	E	F	G	H	I	J	K	L	M	N	O	P	Q	R	S	T	U	V	W	X	Y
---	---	---	---	---	---	---	---	---	---	---	---	---	---	---	---	---	---	---	---	---	---	---	---	---

73. ಒಂದು ಸಾಂಕೇತ ಭಾಷೆಯಲ್ಲಿ 'ಕಪು' = □○○○, 'ಕಾಪ' = ○○○□, 'ಕಾಪು' = △○○ ಇದ್ದರೆ, 'ತಾಪು' ಈ ಶಬ್ದವನ್ನು ಹೇಗೆ ಬರೆಯಲಾಗುತ್ತದೆ?

- (1) □△○
- (2) □□○
- (3) ○△□
- (4) △○○

74. ಒಂದು ಸಾಂಕೇತ ಭಾಷೆಯಲ್ಲಿ, 'ಕಮಡ' = < > v, 'ಕನಮ' = ^ > <, 'ನಕಡ' = v ^ >, ಹಾಗಾದರೆ 'ಮನಡ' ಈ ಶಬ್ದವನ್ನು ಹೇಗೆ ಬರೆಯಲಾಗುತ್ತದೆ?

[ಸೂಚನೆ -> ಅಕ್ಷರಗಳು ಮತ್ತು ಚಿಹ್ನೆಗಳು ಕ್ರಮಬದ್ಧವಾಗಿರಬೇಕಾಗಿರಬೇಕು.]

- (1) ^ v >
- (2) ^ < >
- (3) ^ v <
- (4) > < v

75. ಶಾಲೆಯ ವಾರ್ಷಿಕ ತರಗತಿಯ ತಯಾರಿ ಸಂದಿದೆ. ಎಲ್ಲರೂ ಗೃಹಾಭಿವೃದ್ಧಿ ಪೂರ್ಣಗೊಳಿಸಿ ಎಂದು ಶಿಕ್ಷಕರು ವಿದ್ಯಾರ್ಥಿಗಳಿಗೆ ಹೇಳಿದರು. ನಿಮ್ಮ ಗೃಹಾಭಿವೃದ್ಧಿ ಪೂರ್ಣವಾಗಿದ್ದು ವರ್ಗದಲ್ಲಿಯೇ ಒಳ್ಳೆ ಗುಣವಾದ ವಿದ್ಯಾರ್ಥಿಯ ಗೃಹಾಭಿವೃದ್ಧಿ ಪೂರ್ಣವಾಗಿದೆ, ಎಂದು ನಮಗೆ ತಿಳಿಸಿ. ಹಾಗಾದರೆ ನೀವು ಏನು ಮಾಡುವಿರಿ?

- (1) ನನ್ನ ಬದಿಗೆ ಕೂತ ಗೆಲೆಯವನಿಗೆ ಗೃಹಾಭಿವೃದ್ಧಿಯನ್ನು ಅವನಿಗೆ ನೀಡಿ ಬರೆಯಲು ಕೊಡು ಎಂದು ಹೇಳುವೆ.
- (2) ನಾನು ಅವನ ಗೃಹಾಭಿವೃದ್ಧಿಯನ್ನು ಪೂರ್ಣ ಮಾಡುವುದಕ್ಕೆ ಸಹಾಯ ಮಾಡುವೆ.
- (3) ನನ್ನ ಗೃಹಾಭಿವೃದ್ಧಿಯನ್ನು ನಾನು ಯಾರಿಗೂ ಕೊಡುವುದಿಲ್ಲ.
- (4) ಆ ವಿದ್ಯಾರ್ಥಿಯು ಕುಲಿಯನ್ನು ಕಳೆದುಕೊಂಡಿದ್ದಾನೆಂದು ಶಿಕ್ಷಕನಿಗೆ ಹೇಳುವೆ.

SPACE FOR ROUGH WORK