

ಪೂರ್ವ ಉಚ್ಚ ಪ್ರಾಥಮಿಕ ವಿಷ್ಯವೃತ್ತಿ ಪರೀಕ್ಷೆ (5 ನೇ ಇಯತ್ತೆ ), ಮೇ 2021

ಆಸನ ಕ್ರಮಾಂಕ-

--	--	--	--	--	--	--	--	--	--

ಸಂಚ-



0 8 0 1

ಪೇಪರ್ ಕ - I

ಮಾಧ್ಯಮ - ಕನ್ನಡ

ಸಮಯ : 11:00 ರಿಂದ 12:30

ಪುಟಗಳು : 32

ಪ್ರಥಮ ಭಾಷೆ ಮತ್ತು ಗಣಿತ

ಒಟ್ಟು ಗುಣಗಳು : 150

ಪ್ರಶ್ನೆ ಪತ್ರಿಕೆ ಬಿಡಿಸುವುದಕ್ಕಿಂತ ಮುಂಚೆ ಕೆಳಗಿನ ಸೂಚನೆಗಳು ಎಚರಿಕೆಯಿಂದ ಓದಿರಿ.

- (1) ಈ ಪ್ರಶ್ನೆ ಪತ್ರಿಕೆಯಲ್ಲಿ ಎರಡು ವಿಭಾಗಗಳಿವೆ. ವಿಭಾಗ I ರಲ್ಲಿ ಪ್ರಥಮ ಭಾಷೆಯ 1 ರಿಂದ 25 ಪ್ರಶ್ನೆಗಳಿವೆ ಮತ್ತು ವಿಭಾಗ II ರಲ್ಲಿ ಗಣಿತದ 26 ರಿಂದ 75 ಪ್ರಶ್ನೆಗಳಿವೆ. ಹೀಗೆ 75 ಪ್ರಶ್ನೆಗಳು ಇದ್ದು ಎಲ್ಲ ಪ್ರಶ್ನೆಗಳು ಬಿಡಿಸುವುದು ಅವಶ್ಯಕವಾಗಿದೆ.
- (2) ಪ್ರತಿಯೊಂದು ಪ್ರಶ್ನೆಗೆ 2 ಗುಣಗಳಿವೆ.
- (3) ಪ್ರಶ್ನೆ ಪತ್ರಿಕೆ ಬಿಡಿಸಲು ಒಟ್ಟು 90 ನಿಮಿಷಗಳ ಕಾಲಾವಧಿ ಕೊಡಲಾಗಿದೆ.
- (4) ಉತ್ತರಗಳನ್ನು ನೋಂದಾಯಿಸುವ ಸಲುವಾಗಿ ಸ್ವತಂತ್ರ ಉತ್ತರ ಪ್ರತಿಕೆ ಕೊಡಲಾಗಿದೆ. ಪ್ರತಿಯೊಂದು ಪ್ರಶ್ನೆ ಕ್ರಮಾಂಕದ ಮುಂದೆ ನಾಲ್ಕು ಪರ್ಯಾಯಕವಿರುವ ವರ್ತುಗಳನ್ನು ಕೊಡಲಾಗಿದೆ. ಅದರಲ್ಲಿ ಯೋಗ್ಯ ಉತ್ತರವಿರುವ ಪರ್ಯಾಯ ಕ್ರಮಾಂಕವಿರುವ ವರ್ತುಗಳನ್ನು ಉದಾಹರಣೆಯಲ್ಲಿ ತೋರಿಸಿದಂತೆ ನೋಂದಾಯಿಸಿರಿ. ಉದಾ - ಪ್ರಶ್ನೆ ಕ್ರಮಾಂಕ 6ರ ಉತ್ತರ 2 ಅದರೆ ಕೆಳಗೆ ತೋರಿಸಿದಂತೆ ವೃತ್ತವನ್ನು ಪೂರ್ಣವಾಗಿ ತುಂಬಿರಿ.  
ಉದಾ. ಪ್ರಶ್ನೆ ಕ್ರ. 6 - ① ● ③ ④
- (5) ಕೆಳಗಿನಂತೆ ನೋಂದಾಯಿಸಿದ ಉತ್ತರಗಳ ಬಗ್ಗೆ ವಿಚಾರ ಮಾಡಲಾಗುವುದಿಲ್ಲ.  
① ② ● ④
- (6) ಒಂದು ಪ್ರಶ್ನೆಗೆ ಒಂದಕ್ಕಿಂತ ಹೆಚ್ಚು ವರ್ತುಗಳಲ್ಲಿ ನೋಂದಾಯಿಸಿದ ಉತ್ತರಗಳು, ತಿದ್ದುಪಡಿ ಮಾಡಿ ನೋಂದಾಯಿಸಿದ ಉತ್ತರಗಳು ಗಮನಕ್ಕೆ ತೆಗೆದುಕೊಳ್ಳಲಾಗುವುದಿಲ್ಲ.
- (7) ಒಮ್ಮೆ ನೋಂದಾಯಿಸಿದ ಉತ್ತರ ಬದಲಾಯಿಸಲು ಬರುವುದಿಲ್ಲ.
- (8) ಪರ್ಯಾಯದ ಉತ್ತರ ಕ್ರಮಾಂಕಗಳನ್ನು ಕಪ್ಪು ಅಥವಾ ನಿಲಿ ಬಾಲ್ ಪೆನ್ನಿನಿಂದ ನೋಂದಾಯಿಸಬೇಕು. ಪೆನ್ನಿನಿಂದ ನೋಂದಾಯಿಸಿದ ಉತ್ತರಗಳ ಬಗ್ಗೆ ವಿಚಾರ ಮಾಡಲಾಗುವುದಿಲ್ಲ.
- (9) ಪ್ರಶ್ನೆ ಪ್ರತಿಕೆಯ ಪ್ರತಿಯೊಂದು ಪುಟದ ಕೆಳಗೆ ಮತ್ತು ಕೊನೆಯ ಪುಟದ ಮೇಲೆ ಕಚ್ಚಾ ಕೆಲಸಕ್ಕಾಗಿ ಖಾಲಿ ಸ್ಥಳವನ್ನು ಬಿಡಲಾಗಿದೆ ಅಲ್ಲಿಯೇ ಕಚ್ಚಾ ಕಾರ್ಯ ಮಾಡಬೇಕು.
- (10) ಪರೀಕ್ಷೆಗೆ ಮರ್ಯಾದಿತ ವೇಳೆ ಇರುವುದರಿಂದ ಒಂದು ಪ್ರಶ್ನೆಯ ಉತ್ತರ ನಿಮಗೆ ಬರದಿದ್ದರೆ, ಮುಂದಿನ ಪ್ರಶ್ನೆ ಬಿಡಿಸಿರಿ. ಕೊನೆಗೆ ವೇಳೆ ಇದ್ದರೆ ಉಳಿದಂತೆ ಪ್ರಶ್ನೆಗಳ ಬಗ್ಗೆ ಪುನಃ ಪ್ರಯತ್ನ ಮಾಡಿರಿ.
- (11) ಯಾವುದೇ ಪ್ರಶ್ನೆಯಲ್ಲಿ ತಪ್ಪು/ ದೋಷಗಳಿದ್ದರೆ ಅದರ ಬಗ್ಗೆ ಪರ್ಯಾಯವೇಷಕ ಅಥವಾ ಪರೀಕ್ಷೆ ಕೇಂದ್ರ ಸಂಚಾಲಕರ ಕಡೆ ವಿಚಾರಣೆ ಮಾಡಬಾರದು.
- (12) ಪ್ರಶ್ನೆಯಲ್ಲಿಯ ಯಾವುದೇ ದೋಷ/ತಪ್ಪು/ ಅಕ್ಷೇಪಣೆ ಬಗ್ಗೆ ನಿಮ್ಮ ಲಿಖಿತ ನಿವೇದನೆಯನ್ನು ಶಾಲೆಯವರು ಅಥವಾ ಪಾಲಕರು ಗಟಿಶಿಕ್ಷಣಾಧಿಕಾರಿ ಅಥವಾ ಆನ್ ಲೈನ್ ನೋಂದಾಯಿಸಬೇಕು.
- (13) MSCE ವೆಬ್‌ಸೈಟ್‌ನಲ್ಲಿ (ಮಧ್ಯಂತರ) ಕೊನೆಯ ಉತ್ತರ ಸೂಚಿ ಪ್ರಕಟಿಸಿದ 10 ದಿನಗಳಲ್ಲಿ ದೋಷ/ತಪ್ಪು/ಅಕ್ಷೇಪಣೆ/ಸಮಸ್ಯೆಗಳನ್ನು ಆನ್ ಲೈನ್‌ನಲ್ಲಿ ನೋಂದಾಯಿಸಬೇಕು.
- (14) ಮುದ್ರಣ ದೋಷ ಅಥವಾ ಅನ್ಯ ಕಾರಣಗಳಿಂದ ಪ್ರಶ್ನೆ ತಪ್ಪು ಎಂದು ಕಂಡು ಬಂದರೆ ತಜ್ಞ ಸಮಿತಿಯ ಅಭಿಪ್ರಾಯಕ್ಕೆ ಅನುಸಾರವಾಗಿ ಅದನ್ನು ರದ್ದುಮಾಡಲಾಗುವುದು.
- (15) ಮೂಲ ಕನ್ನಡ ಮಾಧ್ಯಮದ ಜೊತೆಗೆ ಇಂಗ್ಲಿಷ್ ಭಾಷೆಯಲ್ಲಿ ಪ್ರಶ್ನೆ ಪತ್ರಿಕೆ ಕೊಡಲಾಗಿದೆ, ಮೂಲ ಕನ್ನಡ ಮಾಧ್ಯಮದಲ್ಲಿಯ ಸಂದಿಗ್ಧ ಪ್ರಶ್ನೆಯ ಬಗ್ಗೆ ಇಂಗ್ಲಿಷ್ ಪ್ರಶ್ನೆ ನೋಡಿರಿ.

## ವಿಭಾಗ - I

### ಪ್ರಥಮಭಾಷೆ

ಪ್ರಶ್ನೆ ಕ್ರಮಾಂಕ 01 ರಿಂದ 03. ರ ಸಲುವಾಗಿ ಸೂಚನೆ :

ಕೆಳಗಿನ ಗದ್ಯಭಾಗವನ್ನು ಓದಿರಿ. ಅದರ ಕೆಳಗೆ ಕೇಳಲಾಗಿರುವ ಪ್ರಶ್ನೆಗಳ ಉತ್ತರಗಳನ್ನು ಪರ್ಯಾಯದಿಂದ ಆರಿಸಿರಿ.

ನೀರು ನಿಸರ್ಗದ ಕೊಡುಗೆ. ಅದು ಸೀಮಿತವಾಗಿದೆ. ಆದ್ದರಿಂದ ನೀರನ್ನು ಹಿತಮಿತವಾಗಿ ಬಳಸಬೇಕು. ಕುಡಿಯುವ ನೀರನ್ನು ಪರೀಕ್ಷೆಗೆ ಒಳಪಡಿಸಬೇಕು. ಅವಶ್ಯಕತೆ ಕೆಂಡು ಬಂದರೆ ಅದರಲ್ಲಿ ಜಂತುನಾಶಕ ಜಾಷದಿಯನ್ನು ಬೆರೆಸಬೇಕು. ಮನೆಯಲ್ಲಿ ಕುಡಿಯುವ ನೀರನ್ನು ಎತ್ತರ ಸ್ಥಳದಲ್ಲಿ ಇಡಬೇಕು. ಅದರಲ್ಲಿ ಧೂಳು ಬೀಳದಂತೆ ಜಾಗ್ರತೆ ವಹಿಸಬೇಕು. ಶುದ್ಧ ನೀರು ಕುಡಿಯುವುದರಿಂದ ಆರೋಗ್ಯ ಚೆನ್ನಾಗಿರುತ್ತದೆ. ನಲ್ಲಿಯಿಂದ ನೀರು ವ್ಯರ್ಥವಾಗಿ ಹರಿದು ಹೋಗದಂತೆ ಎಚ್ಚರವಹಿಸಬೇಕು. ಬಳಸಿದ ನೀರಾಗಲಿ, ಮಳೆಯ ನೀರಾಗಲಿ ನೆಲದಲ್ಲಿ ಇಂಗುವಂತೆ ವ್ಯವಸ್ಥೆ ಮಾಡಬೇಕು. ಇದರಿಂದ ಅಂತರ್ಜಲದ ಮಟ್ಟವನ್ನು ಕಾಯ್ದುಕೊಳ್ಳಲು ಸಾಧ್ಯವಾಗುತ್ತದೆ.

01. ಆರೋಗ್ಯ ಚೆನ್ನಾಗಿರಲು ನಾವು ಎಂತಹ ನೀರನ್ನು ಕುಡಿಯಬೇಕು ?

- |                 |                |
|-----------------|----------------|
| (1) ನಲ್ಲಿ ನೀರು  | (2) ಮಳೆ ನೀರು   |
| (3) ಅಶುದ್ಧ ನೀರು | (4) ಶುದ್ಧ ನೀರು |

02. ಅಂತರ್ಜಲ ಮಟ್ಟವನ್ನು ಕಾಯ್ದುಕೊಳ್ಳಲು ನಾವು ಏನನ್ನು ಮಾಡಬೇಕು ?

- (1) ನೀರು ಹರಿದು ಹೋಗುವಂತೆ ಮಾಡಬೇಕು
- (2) ನೀರಿನಲ್ಲಿ ಧೂಳು ಬೀಳದಂತೆ ಎಚ್ಚರ ವಹಿಸಬೇಕು.
- (3) ನೀರು ನೆಲದಲ್ಲಿ ಇಂಗುವಂತೆ ವ್ಯವಸ್ಥೆ ಮಾಡಬೇಕು.
- (4) ನೀರನ್ನು ಪರೀಕ್ಷೆಗೆ ಒಳಪಡಿಸಬೇಕು.

03. 'ಅನಾರೋಗ್ಯ' ಈ ಶಬ್ದದ ವಿರುದ್ಧ ಅರ್ಥವನ್ನು ಕೊಡುವ ಯಾವ ಶಬ್ದವು ಗದ್ಯಭಾಗದಲ್ಲಿ ಬಂದಿದೆ ?

- |            |              |
|------------|--------------|
| (1) ಜಾಷಧಿ  | (2) ರೋಗ      |
| (3) ಆರೋಗ್ಯ | (4) ಜಂತುನಾಶಕ |

**SPACE FOR ROUGH WORK**

ಪ್ರಶ್ನೆ ಕ್ರಮಾಂಕ 04 ರಿಂದ 06 ರ ಸಲುವಾಗಿ ಸೂಚನೆ : ಕೆಳಗಿನ ಕವಿತೆಯನ್ನು ಓದಿರಿ. ಅದರ ಕೆಳಗೆ ಕೇಳಲಾಗಿರುವ ಪ್ರಶ್ನೆಗಳ ಯೋಗ್ಯ ಉತ್ತರಗಳನ್ನು ಪರ್ಯಾಯಗಳಿಂದ ಆರಿಸಿರಿ.

ಹೆಮ್ಮೆ ನನಗೆ ಆಮ್ಮ ನಿನ್ನ  
ತಾಯಿಯೆಂದು ಕರೆಯಲು  
ಕಂದನೆಂಬ ನಿನ್ನ ಪ್ರೀತಿ  
ಸವಿಯು ಜೇನಿಗಿಂತಲೂ ||1||

ಏನೂ ತಾನೆ ಇದ್ದರೂ  
ನಿನಗೂ ಸಿರಿವಂತರು ?  
ಇರುವರೇನು ಧರೆಯೊಳಲ್ಲಿ  
ನಿನಗೂ ಧೀಮಂತರು ||2||

ಬಾಳಿ ಬಂದ ಗರಿಮೆಯಲ್ಲಿ  
ಯಾರು ಸಮಕೆ ಬರುವರು  
ತಾಳಿ ನಿಂತ ಸಹನೆಯಲ್ಲಿ  
ನಿನ್ನ ಯಾರು ಗೆಲುವರು ||3||

ಪ್ರಾಚೀನಿ ಎನಿಸಿದರೂ  
ಚಿರನೂತನೆ ನೀನು  
ವೇದ ಮೂಲವಾದ ಜ್ಞಾನ  
ಸುಧೆಗೆ ನೀನು ಧೇನು. ||4||

04. ತಾಯಿಯ ಪ್ರೀತಿಯು ಯಾವುದರಿಗಿಂತಲೂ ಸಿಹಿಯಾಗಿದೆ ?

- |            |           |
|------------|-----------|
| (1) ಜೇನು   | (2) ಹಾಲು  |
| (3) ಸಕ್ಕರೆ | (4) ಬೆಲ್ಲ |

**SPACE FOR ROUGH WORK**

05. ಕೆಳಗಿನವುಗಳಲ್ಲಿ ತಪ್ಪಾದ ವಾಕ್ಯ ಗುರುತಿಸಿರಿ.
- (1) ಸಹನೆಯಲ್ಲಿ ತಾಯಿಯನ್ನು ಗೆಲ್ಲುವವರು ಯಾರೂ ಇಲ್ಲ.
  - (2) ತಾಯಿಯ ಪ್ರೀತಿಗಿಂತಲೂ ಜೇನು ಸಿಹಿಯಾಗಿದೆ.
  - (3) ತಾಯಿಯು ಜ್ಞಾನಸುಧೆಗೆ ಧೇನು ಆಗಿದ್ದಾಳೆ.
  - (4) ಕಂದನಿಗೆ ತಾಯಿ ಎನ್ನಲು ಹೆಮ್ಮೆ ಎನಿಸುವುದು.
06. ತಾಯಿಯ ಯಾವ ಗುಣದ ಬಗ್ಗೆ ಕವಿತೆಯಲ್ಲಿ ಹೇಳಲಾಗಿಲ್ಲ ?
- (1) ಪ್ರಾಮಾಣಿಕತೆ
  - (2) ಸಹನಶೀಲತೆ
  - (3) ಜ್ಞಾನ
  - (4) ಪ್ರೀತಿ
07. ಕೆಳಗಿನ ಪರ್ಯಾಯಗಳಲ್ಲಿಯ ಆಯೋಗ್ಯ ವಿಶೇಷಣವುಳ್ಳ ಜೋಡಿಯನ್ನು ಗುರುತಿಸಿರಿ.
- (1) ಒಳ್ಳೆಯ ಹುಡುಗ
  - (2) ಕೆಂಪು ಚುಂಚು
  - (3) ಗಿಡ್ಡಕೆರೆ
  - (4) ಉದ್ದ ಬಾಲ
08. 'ಶರಣರು' ಈ ಶಬ್ದದ ಲಿಂಗ ಗುರುತಿಸಿರಿ
- (1) ಹೇಳಲು ಬರುವುದಿಲ್ಲ
  - (2) ನಪುಂಸಕ ಲಿಂಗ
  - (3) ಸ್ತ್ರೀಲಿಂಗ
  - (4) ಪುಲ್ಲಿಂಗ
09. 'ಮಗು' ಈ ಪದದ ಬಹುವಚನ ಪದ ಯಾವುದು ?
- (1) ಮಕ್ಕಳು
  - (2) ಮಗನು
  - (3) ಮಗಳು
  - (4) ಕಂದ
10. "ಮಗು, ಎಷ್ಟೊಂದು ಕಷ್ಟ ಪಡುತ್ತಿದ್ದೀಯಾ ? ಸ್ವಲ್ಪ ಕೆಲಸ ಕಡಿಮೆ ಮಾಡು" ಈ ವಾಕ್ಯದಲ್ಲಿ ಎಷ್ಟುಪ್ರಕಾರದ ವಿರಾಮ ಚಿಹ್ನೆಗಳು ಬಂದಿವೆ ?
- (1) ಮೂರು
  - (2) ಎರಡು
  - (3) ನಾಲ್ಕು
  - (4) ಐದು

**SPACE FOR ROUGH WORK**



11. ಕೆಳಗಿನ ಪರ್ಯಾಯಗಳಲ್ಲಿ ಶುದ್ಧವಾದ ಶಬ್ದ ಯಾವುದು ?  
(1) ವಿಜೃಂಭಣೆ (2) ವಿಜೃಂಬಣೆ  
(3) ವಿಜೃಂಭಣೆ (4) ವಿಜೃಂಭಣೆ
12. 'ಕಿವಿಯೂದು' ಈ ಪಡೆನುಡಿಯ ಅರ್ಥ ಯಾವುದು ?  
(1) ಬುದ್ಧಿಹೇಳು (2) ಚಾಡಿ ಹೇಳು  
(3) ಕಿವಿಯಲ್ಲಿ ಊದು (4) ಕಿವಿ ನಿಮಿರಿಸು
13. ಪರ್ಯಾಯದಲ್ಲಿಯ ಯೋಗ್ಯ ಪದವನ್ನು ಆರಿಸಿ ಕೆಳಗಿನ ವಾಕ್ಯ ಪೂರ್ಣ ಮಾಡಿರಿ.  
ಆಸೆಯೇ \_\_\_\_\_ ಕಾರಣ  
(1) ನಿರಾಸೆಗೆ (2) ದುಃಖಕ್ಕೆ  
(3) ಆದೃಷ್ಟಕ್ಕೆ (4) ಸಂತೋಷಕ್ಕೆ
14. ಸಂಗಣಕಕ್ಕೆ ಇಂಗ್ಲಿಷಿನಲ್ಲಿ ಏನೆಂದು ಕರೆಯುವರು ?  
(1) ಇಂಟರನೆಟ್ (2) ಪ್ರಿಂಟರ್  
(3) ಮೊಬಾಯಿಲ್ (4) ಕಂಪ್ಯೂಟರ್

ಪ್ರಶ್ನೆಕ್ರಮಾಂಕ 15 ರಿಂದ 17ರ ಸಲುವಾಗಿ ಸೂಚನೆ : ಕೆಳಗಿನ ಸುಸಂಗತ ಪರಿಚ್ಛೇದದ ಮೂರು ವಾಕ್ಯಗಳನ್ನು ಓದಿರಿ ಮತ್ತು ಉತ್ತರಗಳನ್ನು ಪರ್ಯಾಯಗಳಿಂದ ಆರಿಸಿರಿ.

15. ಅಂದು ಎಲ್ಲ ವಿದ್ಯಾರ್ಥಿಗಳು \_\_\_\_\_ ದಲ್ಲಿ ಒಂದೆಡೆ ಸೇರಿದವು.  
(1) ಕ್ರಿಡಾಂಗಣ (2) ಸಭಾಗೃಹ  
(3) ಉದ್ಯಾನ (4) ವರ್ಗ
16. ಶಾಲೆಯ ಮುಖ್ಯಾಧ್ಯಾಪಕರು \_\_\_\_\_ ಅವರ ಭಾವಚಿತ್ರಕ್ಕೆ ಪುಷ್ಪವನ್ನು ಆರ್ಪಿಸಿದರು.  
(1) ಡಾ. ರಾಧಾಕೃಷ್ಣನ್ (2) ಡಾ. ಬಾಬಾ ಸಾಹೇಬ ಅಂಬೇಡಕರ  
(3) ಪಂಡಿತ ಜವಾಹರಲಾಲ ನೆಹರು (4) ಡಾ. ಎ.ಪಿ.ಜೆ ಅಬ್ದುಲ್ ಕಲಾಂ

**SPACE FOR ROUGH WORK**

17. ಭಾರತದ ಸಂವಿಧಾನ ಶಿಲ್ಪಿಯಾದ ಇವರ ಶಾಲೆಯ ಪ್ರಥಮ ಪ್ರವೇಶ ದಿನವನ್ನು \_\_\_\_\_ ದಿನ ಎಂದು ಆಚರಿಸಿದೆವು.  
 (1) ಶಿಕ್ಷಣ ದಿನ (2) ಮಕ್ಕಳ ದಿನ  
 (3) ವಿದ್ಯಾರ್ಥಿದಿನ (4) ಶಿಕ್ಷಕ ದಿನ
18. 'ಉಪಾದಿ' ಈ ಶಬ್ದಕ್ಕೆ ಸಮಾನ ಅರ್ಥ ಕೊಡುವ ಪದ ಯಾವುದು ?  
 (1) ಪ್ರಶಸ್ತಿ (2) ಆಸಕ್ತಿ  
 (3) ನಿರಾಸಕ್ತಿ (4) ಉನ್ನತಿ
19. 'ಸೌಭಾಗ್ಯ' ಈ ಪದದ ವಿರುದ್ಧಾರ್ಥಕ ಪದ ಯಾವುದು ?  
 (1) ಸುಭಾಗ್ಯ (2) ನಿರ್ಭಾಗ್ಯ  
 (3) ದೌರ್ಭಾಗ್ಯ (4) ಭಾಗ್ಯವಂತ
20. ಕೆಳಗಿನ ಜೋಡು ಶಬ್ದಗಳಲ್ಲಿ ತಪ್ಪಾದ ಜೋಡಿ ಯಾವುದು ?  
 (1) ಗುರು - ಹಿರಿಯ (2) ದಾನ - ಧರ್ಮ  
 (3) ಮಠ - ಮಂದಿರ (4) ಪುಣ್ಯ - ಶ್ಲೋಕ
21. 'ಯ ಚ ನಾ ವಾ ಲ' ಈ ಅಕ್ಷರಗಳನ್ನು ಉಪಯೋಗಿಸಿ ತಯಾರಿಸಿದ ಅರ್ಥಪೂರ್ಣ ಶಬ್ದದ ಮಧ್ಯಭಾಗದಲ್ಲಿ ಬರುವ ಅಕ್ಷರ ಯಾವುದು ?  
 (1) ವಾ (2) ನಾ  
 (3) ಲ (4) ಯ
22. 'ವಿಧಾನ, ವಿಕಾರ, ವಿರೂಪ, ವಿಲಕ್ಷಣ, ವಿಕಸಿತ' ಈ ಶಬ್ದಗಳನ್ನು ವರ್ಣಾನುಕ್ರಮವಾಗಿ ಬರೆದಾಗ ಮಧ್ಯದಲ್ಲಿ ಬರುವ ಶಬ್ದ ಯಾವುದು ?  
 (1) ವಿಲಕ್ಷಣ (2) ವಿರೂಪ  
 (3) ವಿಧಾನ (4) ವಿಕಾರ

**SPACE FOR ROUGH WORK**



23. ಕೆಳಗಿನವುಗಳಲ್ಲಿ ಗುಂಪಿಗೆ ಸೇರದ ಪದ ಗುರುತಿಸಿರಿ.  
ಎತ್ತು, ಆಡು, ನಾಯಿ, ಹರಿ  
(1) ಆಡು (2) ಎತ್ತು  
(3) ಹರಿ (4) ನಾಯಿ
24. ಭಾರತದ ರಕ್ಷಣಾದಳದ (ಸೈನ್ಯದ) ಅತ್ಯುಚ್ಛಮಟ್ಟದ ಪ್ರಶಸ್ತಿ ಯಾವುದು ?  
(1) ಪರಮವೀರ ಚಕ್ರ (2) ವೀರ ಚಕ್ರ  
(3) ಪದ್ಮ ವಿಭೂಷಣ (4) ಭಾರತರತ್ನ
25. ಅಂತರಾಳಕ್ಕೆ ಹಾರಿದ ಭಾರತೀಯ ವಂಶದ ಪ್ರಥಮ ಮಹಿಳೆ ಯಾರು ?  
(1) ಮೇರಿ ಕ್ಯೂರಿ (2) ಸುನೀತಾ ವಿಲಿಯಮ್ಸ್  
(3) ಕಲ್ಪನಾ ಚಾವ್ಲಾ (4) ಮೇರಿ ಕೋಮ

SPACE FOR ROUGH WORK

**SECTION - II**

**MATHEMATICS**

26. How will you write 500 in Roman numerals?
- (1) L (2) C  
(3) D (4) M
27. What is the place value of '4' in 10.345?
- (1) 0.004 (2) 40  
(3) 400 (4) 0.04
28. If  $\square 2575 - \square 836 = 28739$ , then which digit will be in the box?
- (1) 2 (2) 3  
(3) 5 (4) 6
29. If the lengths of the sides of an angle are increased, then how does it affect the measure of the angle?
- (1) measure of the angle increases  
(2) measure of the angle decreases  
(3) measure of the angle remains the same  
(4) measure of the angle is doubled

**SPACE FOR ROUGH WORK**



SECTION- II

ಗಣಿತ

26. 500 ಈ ಸಂಖ್ಯೆಯನ್ನು ರೋಮನ್ ಸಂಖ್ಯಾಚಿಹ್ನೆಯಲ್ಲಿ ಹೇಗೆ ಬರೆಯುತ್ತಾರೆ ?
- (1) L (2) C  
(3) D (4) M
27. 10.345 ಈ ಸಂಖ್ಯೆಯಲ್ಲಿ 4 ರ ಸ್ಥಾನಿಕ ಬೆಲೆ ಎಷ್ಟು !
- (1) 0.004 (2) 40  
(3) 400 (4) 0.04
28.  $\square 2575 - \square 836 = 28739$  ಇದ್ದರೆ  $\square$  ಯಾವ ಅಂಕಿ ಬರುವುದು ?
- (1) 2 (2) 3  
(3) 5 (4) 6
29. ಕೋನದ ಎರಡು ಭುಜಗಳ ಉದ್ದಳತೆ ಹೆಚ್ಚು ಮಾಡಿದಾಗ ಯಾವ ಬದಲಾವಣೆ ಆಗುತ್ತದೆ ?
- (1) ಕೋನದ ಅಳತೆ ಹೆಚ್ಚಾಗುತ್ತದೆ.  
(2) ಕೋನದ ಅಳತೆ ಕಡಿಮೆಯಾಗುತ್ತದೆ.  
(3) ಕೋನದ ಅಳತೆ ಅಷ್ಟೇ ಉಳಿಯುತ್ತದೆ.  
(4) ಕೋನದ ಅಳತೆ ಇಮ್ಮಡಿಯಾಗುತ್ತದೆ.

SPACE FOR ROUGH WORK

30.  $5\frac{3}{7} + 6\frac{4}{7} = \square$

(1)  $11\frac{7}{14}$

(2)  $11\frac{7}{49}$

(3) 12

(4)  $\frac{39}{7}$

31. Write the number in figures,

‘Eight abja eighty thousand eight hundred and eight’.

(1) 8,08,00,808

(2) 8,00,80,808

(3) 80,00,80,808

(4) 8,00,00,80,808

32. Length of the radius of a circle is 2.5cm and length of a chord of the circle is 3cm. What is the length of the longest chord of the circle in cm?

(1) 6

(2) 5

(3) 3

(4) 5.5

33. How many composite numbers lie between 1 to 100?

(1) 75

(2) 25

(3) 24

(4) 74

34. What type of angle will be formed, if two lines are perpendicular to each other?

(1) obtuse

(2) right

(3) acute

(4) reflex angle

**SPACE FOR ROUGH WORK**

30.  $5\frac{3}{7} + 6\frac{4}{7} = \square$

(1)  $11\frac{7}{14}$

(2)  $11\frac{7}{49}$

(3) 12

(4)  $\frac{39}{7}$

31. ಎಂಟು ಅಬ್ಬ ಎಂಬತ್ತು ಸಾವಿರದಾ, ಎಂಟು ನೂರಾ, ಎಂಟು ಈ ಸಂಖ್ಯೆಯನ್ನು ಹೇಗೆ ಬರೆಯುತ್ತಾರೆ.

(1) 8,08,00,808

(2) 8,00,80,808

(3) 80,00,80,808

(4) 8,00,00,80,808

32. ವರ್ತುಗಳದ ತ್ರಿಜ್ಯ 2.5 ಸೆ. ಮಿ. ಮತ್ತು ಜ್ಯಾ 3 ಸೆ. ಮಿ. ಇದ್ದರೆ ವರ್ತುಗಳದ ಎಲ್ಲಕ್ಕೂ ದೊಡ್ಡ ಜ್ಯಾದ ಅಳತೆ ಎಷ್ಟು ?

(1) 6 ಸೆ. ಮಿ.

(2) 5 ಸೆ. ಮಿ.

(3) 3 ಸೆ. ಮಿ.

(4) 5.5 ಸೆ. ಮಿ.

33. 1 ರಿಂದ 100 ರ ಎರಗೆ ಎಷ್ಟು ಸಂಯುಕ್ತ ಸಂಖ್ಯೆಗಳಿವೆ ?

(1) 75

(2) 25

(3) 24

(4) 74

34. ಪರಸ್ಪರ ಲಂಬವಿರುವ ಎರಡು ರೇಷೆಗಳು ಯಾವ ಕೋನವನ್ನು ಉಂಟು ಮಾಡುತ್ತವೆ ?

(1) ವಿಶಾಲಕೋನ

(2) ಕಾಟಕೋನ

(3) ಲಘುಕೋನ

(4) ಪ್ರವಿಶಾಲಕೋನ

**SPACE FOR ROUGH WORK**

35. If the numbers 32996, 39296, 229997, 39096 are written in descending order, then what will be the sum of the first and third number in that arrangement?
- (1) 269093 (2) 72292  
(3) 269293 (4) 262993
36. If the circumference of a circle - shaped garden is 88m and Swara takes 5 rounds to the garden daily; Then how much distance does she cover in a week?
- (1) 3080 km (2) 380 km  
(3) 3.08 km (4) 3.8 km
37. By how much is the sum of biggest 5-digit number and biggest 2-digit number is greater than the smallest 3-digit number?
- (1) 1,00,098 (2) 99,998  
(3) 99,999 (4) 1,00,198
38. Pradeep bought a mobile for Rs. twenty two and a half thousand and sold the same for Rs. nineteen thousand eight hundred and seventy. How much was his loss?
- (1) Rs. 2880 (2) Rs. 2600  
(3) Rs. 2630 (4) Rs. 3000
39.  $\frac{4}{3} + \frac{4}{3} + \frac{4}{3} + \frac{4}{3} + \frac{4}{3} + \frac{4}{3} = \square$
- (1)  $\frac{24}{18}$  (2)  $\frac{20}{3}$   
(3)  $\frac{24}{9}$  (4) 8

**SPACE FOR ROUGH WORK**

35. 32996, 39296, 229997, 39096 ಈ ಸಂಖ್ಯೆಗಳನ್ನು ಇಳಿಕೆಯ ಕ್ರಮದಲ್ಲಿ ಬರೆದಾಗ ಮೊದಲನೆಯ ಮತ್ತು ಮೂರನೆಯ ಸಂಖ್ಯೆಯ ಬೇರಿಜು ಎಷ್ಟು ?
- (1) 269093 (2) 72292  
(3) 269293 (4) 262993
36. 88 ಮೀ. ಪರಿಘವಿರುವ ವರ್ತುಳಕಾಕೃತಿ ಮೈದಾನಕ್ಕೆ ಶ್ರೇಯಾ ಪ್ರತಿದಿನ 5 ಸುತ್ತು ಹಾಕುವಳು. ಹಾಗಾದರೆ ಅವಳು ಒಂದು ವಾರದಲ್ಲಿ ಎಷ್ಟು ನಡೆದಂತಾಗುವದು ?
- (1) 3080 ಕಿಮೀ (2) 380 ಕಿಮೀ  
(3) 3.08 ಕಿಮೀ (4) 3.8 ಕಿಮೀ
37. 5 ಅಂಕಿಯ ಎಲ್ಲಕ್ಕೂ ದೊಡ್ಡ ಸಂಖ್ಯೆ ಮತ್ತು 2 ಅಂಕಿಯ ಎಲ್ಲಕ್ಕೂ ದೊಡ್ಡ ಸಂಖ್ಯೆ ಇವುಗಳ ಬೇರಿಜು 3 ಅಂಕಿಯ ಎಲ್ಲಕ್ಕೂ ಚಿಕ್ಕ ಸಂಖ್ಯೆಗಿಂತ ಎಷ್ಟರಿಂದ ದೊಡ್ಡದಿದೆ ?
- (1) 1,00,098 (2) 99,998  
(3) 99,999 (4) 1,00,198
38. ಪ್ರದೀಪನು ಇಪ್ಪತ್ತೆರಡುವರೆ ಸಾವಿರಕ್ಕೆ ತೆಗೆದುಕೊಂಡ ಮೊಬೈಲ ಹತ್ತೊಂಬತ್ತು ಸಾವಿರದಾ ಎಂಟು ನೂರಾ ಎಪ್ಪತ್ತು ರೂ. ಗಳಿಗೆ ಮಾರಾಟ ಮಾಡಿದರೆ ಅವನಿಗೆ ಈ ವ್ಯವಹಾರದಲ್ಲಿ ಆದ ಹಾನಿ ಎಷ್ಟು ?
- (1) 2880 ರೂ. (2) 2600 ರೂ.  
(3) 2630 ರೂ. (4) 3000 ರೂ.
39.  $\frac{4}{3} + \frac{4}{3} + \frac{4}{3} + \frac{4}{3} + \frac{4}{3} + \frac{4}{3} = \square$
- (1)  $\frac{24}{18}$  (2)  $\frac{20}{3}$   
(3)  $\frac{24}{9}$  (4) 8

**SPACE FOR ROUGH WORK**

40. Swarda deposited Rs. 25,000 in a bank at a rate of 8 p.c.p.a for 6 years. How much interest will she receive after 6 years?
- (1) Rs. 12,000 (2) Rs. 2,000  
(3) Rs. 1,500 (4) Rs. 1,200
41. If the fractions,  $\frac{7}{9}, \frac{5}{9}, \frac{2}{9}, \frac{8}{9}$  are arranged in ascending order, then what will be the sum of first and third fraction in that arrangement?
- (1) 1 (2)  $\frac{14}{9}$   
(3)  $\frac{14}{81}$  (4)  $\frac{5}{18}$
42. While writing the number, 'Seventy lakhs and Seven' in figures, Ishwari wrote one zero less between the two sevens. Then by how much is the number that Ishwari wrote is more or less than the given number?
- (1) more by 77,00,014 (2) less by 77,00,014  
(3) more by 63,00,000 (4) less by 63,00,000
43. Which is the biggest fraction among the following?
- (1)  $\frac{8}{10}$  (2)  $\frac{8}{100}$   
(3)  $\frac{8}{1000}$  (4)  $\frac{8}{10,000}$

**SPACE FOR ROUGH WORK**

40. ಸೃಷ್ಟಿಯೂ ಪ್ರ. ವ. ಪ್ರ. ಶ 8 ದರದಿಂದ 25,000 ರೂ. ಗಳನ್ನು 6 ವರ್ಷಗಳ ವರೆಗೆ ಇಟ್ಟಾಗ ಅವಳಿಗೆ ದೊರೆಯುವ ಸರಳಬಡ್ಡಿ ಎಷ್ಟು ?
- (1) 12,000 ರೂ. (2) 2,000 ರೂ.  
(3) 1,500 ರೂ. (4) 1,200 ರೂ.
41.  $\frac{7}{9}, \frac{5}{9}, \frac{2}{9}, \frac{8}{9}$  ಈ ಸಂಖ್ಯೆಗಳನ್ನು ಏರಿಕೆಯ ಕ್ರಮದಲ್ಲಿ ಬರೆದಾಗ ಬರುವ ಮೊದಲನೆಯ ಮತ್ತು ಮೂರನೆಯ ಸಂಖ್ಯೆಯ ಬೇರಿನು ಎಷ್ಟು ?
- (1) 1 (2)  $\frac{14}{9}$   
(3)  $\frac{14}{81}$  (4)  $\frac{5}{18}$
42. ಎಪ್ಪತ್ತು ಲಕ್ಷ ಏಳು ಈ ಸಂಖ್ಯೆಯನ್ನು ಬರೆಯುವಾಗ ಈಶ್ವರಿಯು ಎರಡು 7 ಗಳ ಮಧ್ಯದಲ್ಲಿ ಒಂದು ಶೂನ್ಯವನ್ನು ಕಡಿಮೆ ಬರೆದಳು. ಹಾಗಾದರೆ ಅವಳು ಬರೆದ ಸಂಖ್ಯೆಯು ಕೊಟ್ಟ ಸಂಖ್ಯೆಗಿಂತ ಎಷ್ಟರಿಂದ ಹೆಚ್ಚು ಅಥವಾ ಕಡಿಮೆ ಇದೆ ?
- (1) 77,00,014 ರಿಂದ ಹೆಚ್ಚು (2) 77,00,014 ರಿಂದ ಕಡಿಮೆ  
(3) 63,00,000 ರಿಂದ ಹೆಚ್ಚು (4) 63,00,000 ರಿಂದ ಕಡಿಮೆ
43. ಕೆಳಗಿನವುಗಳಲ್ಲಿ ಎಲ್ಲಕ್ಕೂ ದೊಡ್ಡ ಅಪೂರ್ಣಾಂಕ ಯಾವುದು ?
- (1)  $\frac{8}{10}$  (2)  $\frac{8}{100}$   
(3)  $\frac{8}{1000}$  (4)  $\frac{8}{10,000}$

**SPACE FOR ROUGH WORK**

44. 
$$\begin{array}{rcccc} & x & y & y & z \\ + & x & z & z & y \\ \hline & y & y & y & y \end{array}$$

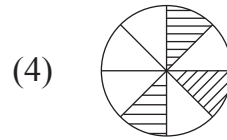
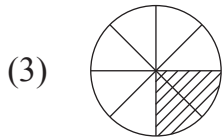
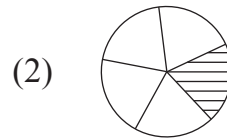
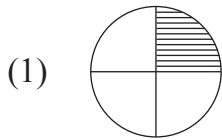
Which digits will be there for  $x$ ,  $y$  and  $z$  respectively?

- (1) 4, 3, 0 (2) 2, 4, 2  
(3) 3, 6, 2 (4) 4, 8, 0

45. In a transaction, the cost price is Rs. thirty two hundred and eighty and the selling price is Rs. thirty four hundred and seventy. Find out whether the transaction had profit or loss and by how much?

- (1) Profit of Rs. 180 (2) Loss of Rs. 190  
(3) Profit of Rs. 190 (4) Loss of Rs. 170

46. Which of the following diagram represents the fraction  $\frac{12}{60}$ ?



47. Find the alternative which does not fall in the group.

- (1)  $7 \times 7 \div 7 \times 5 = 35$  (2)  $12 - 3 - 5 + 10 = 14$   
(3)  $5 \times 3 + 4 \times 2 = 70$  (4)  $10 - 2 \times 3 + 5 = 9$

SPACE FOR ROUGH WORK



$$\begin{array}{r}
 x \ y \ y \ z \\
 + \ x \ z \ z \ y \\
 \hline
 y \ y \ y \ y
 \end{array}$$

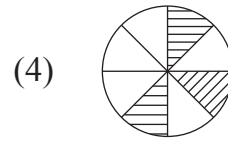
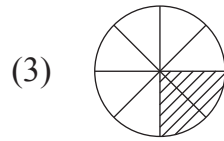
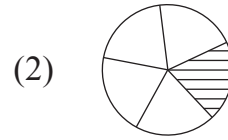
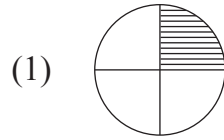
$x, y, z$  ದ ಸ್ಥಳದಲ್ಲಿ ಕ್ರಮವಾಗಿ ಬರುವ ಅಂಕಗಳಾವವು ?

- (1) 4, 3, 0 (2) 2, 4, 2  
 (3) 3, 6, 2 (4) 4, 8, 0

45. ಮೂವತ್ತೆರಡು ನೂರಾ ಎಂಬತ್ತು ರೂ ಕೊಂಡಬೆಲೆ ಮತ್ತು ಮೂವತ್ತಾ ಲ್ಲು ನೂರಾ ಎಪ್ಪತ್ತು ರೂ. ಮಾರಾಟ ಬೆಲೆ ಇದ್ದರೆ ಈ ವ್ಯವಹಾರದಲ್ಲಿ ಆದ ಲಾಭ ಅಥವಾ ಹಾನಿ ಎಷ್ಟು ?

- (1) 180 ರೂ. ಲಾಭ (2) 190 ರೂ. ಹಾನಿ  
 (3) 190 ರೂ. ಲಾಭ (4) 170 ರೂ. ಹಾನಿ

46. ಕೆಳಗಿನವುಗಳಲ್ಲಿ ಯಾವ ಆಕೃತಿ  $\frac{12}{60}$  ಈ ಅಪೂರ್ಣಾಂಕದ ಸಮಮೂಲ್ಯ ಅಪೂರ್ಣಾಂಕ ದರ್ಶಿಸುವದು ?



47. ಗುಂಪಿನಲ್ಲಿ ಸರಿ ಹೊಂದದ ಪರ್ಯಾಯ ಯಾವುದು ?

- (1)  $7 \times 7 \div 7 \times 5 = 35$  (2)  $12 - 3 - 5 + 10 = 14$   
 (3)  $5 \times 3 + 4 \times 2 = 70$  (4)  $10 - 2 \times 3 + 5 = 9$

**SPACE FOR ROUGH WORK**

48. Roshni started her studies at half past eleven in the morning and finished at quarter to two. For how much time did she study?
- (1) 3 hours 70 minutes (2) 2 hours 45 minutes  
(3) 2 hours 15 minutes (4) 2 hours 30 minutes
49. What is the difference between the biggest 3-digit even number and the biggest 2-digit prime number?
- (1) 900 (2) 901  
(3) 902 (4) 903
50. One of the Zilla Parishad schools have 60% girls out of 120 and a private secondary school of the same village has 55% girls out of 200. Find out the total number of girls in that village going to school?
- (1) 172 (2) 38  
(3) 182 (4) 110
51. What number should be subtracted from six and three quarters thousand to get the biggest two digit number ?
- (1) 6751 (2) 6651  
(3) 7026 (4) 7126

**SPACE FOR ROUGH WORK**

48. ರೊಶನಿ ಮುಂಜಾನೆ ಹನ್ನೊಂದುವರೆ ಘಂಟೆಗೆ ಅಭ್ಯಾಸಕ್ಕೆ ಕುಳಿತು ಒಂದು ಮುಕ್ಕಾಲು ಘಂಟೆಗೆ ಎದ್ದಳು ಹಾಗಾದರೆ ಅವಳು ಎಷ್ಟು ವೇಳೆ ಅಭ್ಯಾಸ ಮಾಡಿದಳು ?
- (1) 3 ಘಂಟೆ 70 ನಿಮಿಷ (2) 2 ಘಂಟೆ 45 ನಿಮಿಷ  
(3) 2 ಘಂಟೆ 15 ನಿಮಿಷ (4) 2 ಘಂಟೆ 30 ನಿಮಿಷ
49. ಎಲ್ಲಕ್ಕೂ ದೊಡ್ಡ ಮೂರಂಕಿಯ ಸಮ ಸಂಖ್ಯೆ ಮತ್ತು ಎಲ್ಲಕ್ಕೂ ದೊಡ್ಡ ಎರಡಂಕಿಯ ಮೂಲಸಂಖ್ಯೆ ಇವುಗಳಲ್ಲಿಯ ವ್ಯತ್ಯಾಸವೆಷ್ಟು ?
- (1) 900 (2) 901  
(3) 902 (4) 903
50. ಜಿಲ್ಲಾ ಪರಿಷದದ ಒಂದು ಶಾಲೆಯಲ್ಲಿ 120 ವಿದ್ಯಾರ್ಥಿಗಳ ಪೈಕಿ 60% ಹುಡುಗಿಯರಿದ್ದಾರೆ ಅದೇ ಊರಿನಲ್ಲಿ ಖಾಸಗಿ ಮಾಧ್ಯಮಿಕ ಶಾಲೆಯಲ್ಲಿ 200 ವಿದ್ಯಾರ್ಥಿಗಳ ಪೈಕಿ 55% ಹುಡುಗಿಯರಿದ್ದಾರೆ ಹಾಗಾದರೆ ಆ ಊರಿನ ಶಾಲೆಗೆ ಹೋಗುವಂತಹ ಹುಡುಗಿಯರ ಸಂಖ್ಯೆ ಎಷ್ಟು ?
- (1) 172 (2) 38  
(3) 182 (4) 110
51. ಏಳು ಮುಕ್ಕಾಲು ಸಾವಿರದಿಂದ ಎಷ್ಟು ವಜಾಬಾಕಿ ಮಾಡಲಾಗಿ ಎರಡಂಕಿಯ ಎಲ್ಲಕ್ಕೂ ದೊಡ್ಡ ಸಂಖ್ಯೆ ದೊರೆಯುತ್ತದೆ ?
- (1) 6751 (2) 6651  
(3) 7026 (4) 7126

**SPACE FOR ROUGH WORK**

52. Julie collected Rs. 10 daily in her money bank from 12th May to 26th June. Also she added Rs. 100 given by her uncle and Rs. 240 given by her father to buy a cake for her birthday. She donated the total amount to Chief Minister Relief Fund. How much money did she donate to the Chief Minister Relief Fund?
- (1) Rs. 790 (2) Rs. 350  
(3) Rs. 800 (4) Rs. 780
53. Jeevan went to a bank with two notes of each Rs. 50, Rs. 100 and Rs. 500. He asked for notes of Rs. 20 in return. How many notes of Rs. 20 will he receive?
- (1) 60 (2) 65  
(3) 55 (4) 63
54. Find such a number which when multiplied by itself the product we get is equal to the product of all the divisors of 27.
- (1) 529 (2) 27  
(3) 9 (4) 18
55. Solve :  $27 \div 3 + 6 \times 5 = ?$
- (1) 75 (2) 15  
(3) 39 (4)  $\frac{27}{33}$
56. Dhanesh bought one and a quarter meter of cloth for pants and one and three quarters meter of cloth for shirt. How much meter of cloth did he buy?
- (1) three (2) three and a quarter  
(3) two and a half (4) three and three quarters

SPACE FOR ROUGH WORK



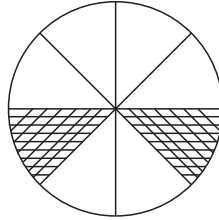
52. ಜ್ಯುಲಿಯೂ 12 ಮೇ ದಿಂದ 26 ಜೂನ ಈ ಅವಧಿಯಲ್ಲಿ ಮನಿಬ್ಯಾಂಕದಲ್ಲಿ ಪ್ರತಿ ದಿನ 10 ರೂ. ಜಮಾ ಮಾಡಿದಳು. ಅದರಲ್ಲಿ ಮಾವನು ಹುಟ್ಟುಹಬ್ಬಕ್ಕೆ ಕೊಟ್ಟ 100 ರೂ. ಮತ್ತು ತಂದೆಯು ಕೇಕ ಸಲುವಾಗಿ ಕೊಟ್ಟ 240 ರೂ. ಕೊಡಿಸಿ ಒಟ್ಟು ಹಣವನ್ನು ಮುಖ್ಯಮಂತ್ರಿ ಸಹಾಯಧನವೆಂದು ಕೊಟ್ಟಳು ? ಹಾಗಾದರೆ ಅವಳು ಕೊಟ್ಟಂತಹ ಹಣವೆಷ್ಟು ?
- (1) 790 ರೂ. (2) 350 ರೂ.  
(3) 800 ರೂ. (4) 780 ರೂ.
53. ಜೀವನನೂ 50 ರೂ. 100 ರೂ ಮತ್ತು 500 ರೂ ಗಳ ಪ್ರತ್ಯೇಕ ಎರಡು ನೋಟುಗಳನ್ನು ಬ್ಯಾಂಕಿನಲ್ಲಿ ಕೊಟ್ಟು ಆ ಹಣದ ಬದಲಾಗಿ ಅದರಷ್ಟೆ ಒಟ್ಟು 20ರೂ. ನೋಟು ತೆಗೆದುಕೊಂಡರೆ ಅವನಿಗೆ ಸಿಗುವ 20ರೂ ನೋಟುಗಳ ಸಂಖ್ಯೆ ಎಷ್ಟು ?
- (1) 60 (2) 65  
(3) 55 (4) 63
54. ಯಾವ ಸಂಖ್ಯೆಗೆ ಅದೇ ಸಂಖ್ಯೆಯಿಂದ ಗುಣಿಸಿದಾಗ ಬರುವ ಗುಣಾಕಾರವು 27ರ ಒಟ್ಟು ವಿಭಾಜಕಗಳ ಗುಣಾಕಾರ ಇರುತ್ತದೆ
- (1) 529 (2) 27  
(3) 9 (4) 18
55.  $27 \div 3 + 6 \times 5 =$  ಎಷ್ಟು ?
- (1) 75 (2) 15  
(3) 39 (4)  $\frac{27}{33}$
56. ಕೇಶವನು ಪ್ಯಾಂಟಿಗಾಗಿ ಒಂದು ಕಾಲು ಮೀಟರ ಮತ್ತು ಶಿರ್ಟಿಗಾಗಿ ಒಂದು ಮುಕ್ಕಾಲು ಮೀಟರ ಬಟ್ಟೆ ತೆಗೆದುಕೊಂಡರೆ ಅವನು ಒಟ್ಟು ಎಷ್ಟು ಮೀಟರ ಬಟ್ಟೆ ಖರೀದಿಸಿದನು ?
- (1) ಮೂರು (2) ಮೂರು ಕಾಲು  
(3) ಎರಡುವರೆ (4) ಮೂರು ಮುಕ್ಕಾಲು

**SPACE FOR ROUGH WORK**

57. Soham was born on 15th June, 2011, which was Thursday. Which was the day on his 5th birthday?

- (1) Tuesday (2) Thursday  
(3) Wednesday (4) Friday

58. Find the percentage of the shaded portion in the following diagram.



- (1) 2 % (2) 25 %  
(3) 6 % (4) 75 %

59. Side of an equilateral triangle is 10cm. A square of perimeter same as to the perimeter of an equilateral triangle is drawn. What will be the side of the square?

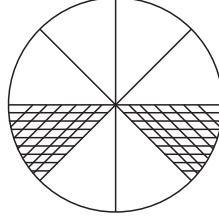
- (1) 30 cm (2) 8 cm  
(3) 7.5 cm (4) 10 cm

SPACE FOR ROUGH WORK

57. ಸೋಹಮನ ಜನ್ಮ 15 ಜೂನ್ 2011ರ ಗುರುವಾರ ದಂದು ಆಯಿತು ಹಾಗಾದರೆ ಅವನ 5ನೇ ಹುಟ್ಟುಹಬ್ಬ ಯಾವ ದಿನ ಬರುವುದು ?

- (1) ಮುಂಗಳವಾರ (2) ಗುರುವಾರ  
(3) ಬುಧವಾರ (4) ಶುಕ್ರವಾರ

58. ಅಕ್ಷತಿಯಲ್ಲಿ ಛಾಯಾಂಕಿತ ಮಾಡಿದ ಭಾಗದ ಪ್ರತಿಶತ ಎಷ್ಟು ?



- (1) 2 % (2) 25 %  
(3) 6 % (4) 75 %


59. ಒಂದು ಸಮಭುಜ ತ್ರಿಕೋನದ ಭುಜ 10 ಸೆ. ಮೀ. ಇದೆ. ಆ ತ್ರಿಕೋನದ ಪರಿಮಿತಿಯಷ್ಟೇ ಪರಿಮಿತಿ ಇರುವ ಚೌರಸವನ್ನು ತೆಗೆದಾಗ ಆ ಚೌರಸದ ಭುಜ ಎಷ್ಟು ಇರುವುದು ?






- (1) 30 ಸೆ. ಮೀ. (2) 8 ಸೆ. ಮೀ.  
(3) 7.5 ಸೆ. ಮೀ. (4) 10 ಸೆ. ಮೀ.

**SPACE FOR ROUGH WORK**

**Q. 60 and 61**

Answer the following questions with the pictograph given below:

(scale : 1  = 25 students)

Types of Game	Number of students
Football	
Cricket	
Basket ball	
Kabaddi	
Kho-Kho	

**60.** How many times are Kabaddi players to the Basket ball players?

- (1) 50 (2) 3  
(3) 150 (4) 5

**61.** By how much is number of Cricket players and Basket ball players less than number of football players and Kabaddi players?

- (1) 75 (2) 50  
(3) 25 (4) 150






**SPACE FOR ROUGH WORK**



ಪ್ರಶ್ನೆ 60 ಮತ್ತು 61

ಕೆಳಗಿನ ಚಿತ್ರರೂಪ ಮಾಹಿತಿಯ ಅಧಾರದಿಂದ ಅದರ ಕೆಳಗಿನ ಪ್ರಶ್ನೆಗಳ ಉತ್ತರ ಹುಡುಕಿರಿ.

(ಪ್ರಮಾಣ 1  = 25 ವಿದ್ಯಾರ್ಥಿ)

ಅಟದ ಪ್ರಕಾರ	ವಿದ್ಯಾರ್ಥಿ ಸಂಖ್ಯೆ
ಫುಟ ಬಾಲ	
ಕ್ರಿಕೆಟ	
ಬಾಸ್ಕೆಟ ಬಾಲ	
ಕಬಡ್ಡಿ	
ಖೋ ಖೋ	

60. ಕಬಡ್ಡಿ ಆಡುವ ವಿದ್ಯಾರ್ಥಿಗಳ ಸಂಖ್ಯೆಯೂ ಬಾಸ್ಕೆಟ ಬಾಲ ಆಡುವ ವಿದ್ಯಾರ್ಥಿಗಳ ಸಂಖ್ಯೆಯು ಎಷ್ಟು ಪಟ್ಟು ಇದೆ ?
- (1) 50 (2) 3  
(3) 150 (4) 5
61. ಕ್ರಿಕೆಟ ಮತ್ತು ಬಾಸ್ಕೆಟ ಬಾಲ ಆಡುವ ವಿದ್ಯಾರ್ಥಿಗಳ ಸಂಖ್ಯೆ ಇದು ಫುಟಬಾಲ ಮತ್ತು ಕಬಡ್ಡಿ ಆಡುವವರ ವಿದ್ಯಾರ್ಥಿಗಳಿಗಿಂತ ಎಷ್ಟರಿಂದ ಕಡಿಮೆ ಇದೆ?
- (1) 75 (2) 50  
(3) 25 (4) 150

SPACE FOR ROUGH WORK

62. How many times are the number of edges of cuboid to the number of surfaces of cuboid?
- (1) double (2) three times  
(3) half (4) four times
63. In Nana Patil's farm house, there are 300 sacks of grains. Out of which 35% sacks are of wheat, 20% sacks are of Jowar, 15% sacks are of Tur dal and remaining are the sacks of Soyabeans. Find the number of Soyabean sacks at the farm house.
- (1) 60 (2) 120  
(3) 105 (4) 90
64. Find the length of wire required to fence 3 times the two sides of a square shaped ground having area 144 sq. m.
- (1) 48 m (2) 14.4 m  
(3) 72 m (4) 24 m
65. In the month of May, two and a quarter lakhs tourists visited Mahabaleshwar and three quarter lakhs visited Ajanta - Verul caves. How many more tourists visited Mahabaleshwar than Ajanta - Verul caves?
- (1) 75,000 (2) 1,25,000  
(3) 3,00,000 (4) 1,50,000

**SPACE FOR ROUGH WORK**



62. ಇಷ್ಟಿಕಾಚಿತಿಯ ಅಂಚುಗಳ ಸಂಖ್ಯೆಯೂ ಇಷ್ಟಿಕಾಚಿತಿಯ ಪುಷ್ಪಗಳ ಸಂಖ್ಯೆಯು ಎಷ್ಟು ಪಟ್ಟು ಇರುತ್ತದೆ ?
- (1) ಎರಡು ಪಟ್ಟು (2) ಮೂರು ಪಟ್ಟು  
(3) ಅರ್ಧ ಪಟ್ಟು (4) ನಾಲ್ಕು ಪಟ್ಟು
63. ಒಬ್ಬ ಒಕ್ಕಲಿಗನ ಮನೆಯಲ್ಲಿ 300 ಧಾನ್ಯದ ಚೀಲಗಳಿವೆ ಅವುಗಳಲ್ಲಿ 20% ಜೋಳದ, 35% ಗೋಧಿಯ, 15% ತೊಗರೆ ಬೇಳೆಯ ಹಾಗೂ ಉಳಿದವುಗಳು ಸೋಯಾಬೀನ್‌ಗಳ ಚೀಲಗಳಿವೆ ಹಾಗಾದರೆ ಅವನ ಹತ್ತಿರ ಇರುವ ಸೋಯಾಬೀನ್‌ದ ಚೀಲಗಳು ಎಷ್ಟು ?
- (1) 60 (2) 120  
(3) 105 (4) 90
64. 144 ಚೌ. ಮೀ ಕ್ಷೇತ್ರಫಲವಿರುವ ಒಂದು ಚೌರಸಾಕೃತಿ ಮೈದಾನಕ್ಕೆ ಕೇವಲ ಎರಡು ಬದಿಗೆ ಮೂರು ಪದರಿನ ತಿಂತಿಯ ಬೇಲಿ ಹಾಕಲು ಒಟ್ಟು ಎಷ್ಟು ಉದ್ದವಿರುವ ತಂತಿ ಬೇಕಾಗುವುದು ?
- (1) 48 ಮೀ. (2) 14.4 ಮೀ.  
(3) 72 ಮೀ. (4) 24 ಮೀ.
65. ಮೇ ತಿಂಗಳಲ್ಲಿ ಮಹಾಬಳೇಶ್ವರಕ್ಕೆ ಎರಡು ಕಾಲು ಲಕ್ಷ ಪ್ರಾವಾಸಿಗರು ಭೇಟಿ ನೀಡಿದರು ಮತ್ತು ಅಜಂತಾ, ಎಲ್ಲೋರಾಗಳಿಗೆ ಮುಕ್ಕಾಲು ಲಕ್ಷ ಪ್ರಾವಾಸಿಗರು ಭೇಟಿ ನೀಡಿದರು ಹಾಗಾದರೆ ಮಹಾಬಳೇಶ್ವರಕ್ಕೆ ಎಷ್ಟು ಹೆಚ್ಚು ಪ್ರಾವಾಸಿಗರು ಭೇಟಿ ನೀಡಿದರು ?
- (1) 75,000 (2) 1,25,000  
(3) 3,00,000 (4) 1,50,000

**SPACE FOR ROUGH WORK**

66. 552 minutes = ..... hours and ..... minutes.  
(1) 9, 52 (2) 5, 52  
(3) 9, 12 (4) 5, 12
67. 2400 papers = ..... Ream papers.  
(1) 100 (2) 75  
(3) 50 (4) 5
68. Ramu purchased 45 litres milk with the rate Rs. 35 per litre. He sold all the milk with profit Rs. 315. Find the selling price of milk per litre.  
(1) Rs. 37 (2) Rs. 38  
(3) Rs. 42 (4) Rs. 44
69. A wire measuring 15 m, 50 cm was divided equally into 10 parts. What is the length of each part?  
(1) 155 cm (2) 155 m  
(3) 150 cm (4) 150 m
70. Akash purchased a cycle for Rs. 3250 and sold it for Rs. 2375 after a year. Did he make profit or loss and how much?  
(1) Profit of Rs. 775 (2) Profit of Rs. 875  
(3) Loss of Rs. 775 (4) Loss of Rs. 875
71. If divisor = 105, Quotient = 4250, Remainder = 75, then dividend = ?  
(1) 446250 (2) 446325  
(3) 446225 (4) 446625

**SPACE FOR ROUGH WORK**

66. 552 ನಿಮಿಷಗಳು = ..... ಘಂಟೆ ..... ನಿಮಿಷಗಳು
- (1) 9, 52 (2) 5, 52  
(3) 9, 12 (4) 5, 12
67. 2400 ಕಾಗದಗಳು ಎಂದರೆ ಎಷ್ಟು ರಿಮ್ ಕಾಗದಗಳು ?
- (1) 100 (2) 75  
(3) 50 (4) 5
68. ರಾಮೂ 35 ರೂ ಪ್ರತಿ ಲೀಟರ ದರದಿಂದ 45 ಲೀಟರ ಹಾಲನ್ನು ಖರೀದಿಸಿದನು. ಆ ಎಲ್ಲ ಹಾಲನ್ನು ಅವನು 315 ರೂ. ಲಾಭ ತೆಗೆದುಕೊಂಡು ಮಾರಾಟ ಮಾಡಿದನು ಹಾಗಾದರೆ ಹಾಲಿನ ಪ್ರತಿ ಲೀಟರದ ಮಾರಾಟ ಬೆಲೆ ಎಷ್ಟು ?
- (1) 37 ರೂ. (2) 38 ರೂ.  
(3) 42 ರೂ. (4) 44 ರೂ.
69. 15 ಮೀ 50 ಸೆ.ಮೀ ಉದ್ದಳತೆಯ ತಂತಿಯಲ್ಲಿ 10 ಸಮಾನ ಭಾಗ ಮಾಡಿದಾಗ ಪ್ರತಿಯೊಂದು ಭಾಗದ ಉದ್ದಳತೆ ಎಷ್ಟಾಗುವುದು ?
- (1) 155 ಸೆ.ಮೀ. (2) 155 ಮೀ.  
(3) 150 ಸೆ.ಮೀ. (4) 150 ಮೀ.
70. 3250 ರೂ ಗಳಿಗೆ ಖರೀದಿಸಿದ ಸೈಕಲ್‌ನ್ನು ಆಕಾಶನು ಒಂದು ವರ್ಷದ ನಂತರ 2375 ರೂ ಗಳಿಗೆ ಮಾರಿದರೆ ಅವನಿಗೆ ಈ ವ್ಯವಹಾರದಲ್ಲಿ ಆದ ಲಾಭ ಅಥವಾ ಹಾನಿ ಎಷ್ಟು ?
- (1) ಲಾಭ 775 ರೂ. (2) ಲಾಭ 875 ರೂ.  
(3) ಹಾನಿ 775 ರೂ. (4) ಹಾನಿ 875 ರೂ.
71. ಭಾಜಕ = 105, ಭಾಗಾಕಾರ = 4250, ಶೇಷ = 75, ಇದ್ದರೆ ಭಾಜ್ಯ = ಎಷ್ಟು ?
- (1) 446250 (2) 446325  
(3) 446225 (4) 446625

**SPACE FOR ROUGH WORK**

72. What will be the cost of the cloth purchased at the rate Rs. 52 per meter for 25 students each requiring one and a half meter ?

- (1) 1950 (2) 1850  
(3) 2050 (4) 2150

73. Solve :

$$\frac{7}{4} + \frac{3}{4} \times \frac{4}{3} = ?$$

- (1)  $\frac{10}{3}$  (2)  $\frac{11}{4}$   
(3)  $\frac{19}{16}$  (4)  $\frac{14}{11}$

74. Kerela express starts at 4 : 10 in the morning from Nagpur and reaches Tiruvananthapuram at 14 : 15 the next day. How much time does it take to travel from Nagpur to Tiruvananthapuram?

- (1) 34 hours 5 minutes (2) 34 hours  
(3) 22 hours 5 minutes (4) 26 hours 15 minutes

75. In Saraswati Vidyalay, 24 packets of milk having each 500 ml of milk was bought and was heated. It was distributed equally among 60 students. Find out how much ml of milk was given to each student.

- (1) 250 ml (2) 150 ml  
(3) 200 ml (4) 175 ml

**SPACE FOR ROUGH WORK**



72. 25 ವಿದ್ಯಾರ್ಥಿಗಳಿಗಾಗಿ ಪ್ರತಿಯೊಬ್ಬರಿಗೆ ಒಂದೂವರೆ ಮೀಟರ ಬಟ್ಟೆ, 52 ರೂ. ಪ್ರತಿ ಮೀಟರ ದಂತೆ ಖರೀದಿಸಲು ಬರುವ ಒಟ್ಟು ಖರ್ಚು ಎಷ್ಟು ?
- (1) 1950 (2) 1850  
(3) 2050 (4) 2150
73. ಬಿಡಿಸಿರಿ  
 $\frac{7}{4} + \frac{3}{4} \times \frac{4}{3} = ?$
- (1)  $\frac{10}{3}$  (2)  $\frac{11}{4}$   
(3)  $\frac{19}{16}$  (4)  $\frac{14}{11}$
74. ನಾಗಪುರದಿಂದ ಮುಂಜಾನೆ 4:10 ಕ್ಕೆ ಬಿಟ್ಟ ಕೇರಳ ಎಕ್ಸ್‌ಪ್ರೆಸ್ ರೈಲು ಮರುದಿನ 14:15 ಕ್ಕೆ ತಿರುವನಂತಪುರಂಗೆ ತಲುಪುವದು. ಹಾಗಾದರೆ ನಾಗಪುರದಿಂದ ತಿರುವನಂತಪುರಂ ಚಲಿಸಲು ರೈಲಿಗೆ ಬೇಕಾದ ವೇಳೆ ಎಷ್ಟು ?
- (1) 34 ಘಂಟೆ 5 ನಿಮಿಷಗಳು (2) 34 ಘಂಟೆ  
(3) 22 ಘಂಟೆ 5 ನಿಮಿಷಗಳು (4) 26 ಘಂಟೆ 15 ನಿಮಿಷಗಳು
75. ಸರಸ್ವತಿ ವಿದ್ಯಾಲಯದಲ್ಲಿ 500 ಮಿ.ಲೀ ನ 24 ಹಾಲಿನ ಪಾಕೇಟ ತಂದು ಅದನ್ನು ಕಾಯಿಸಿ 60 ಮಕ್ಕಳಿಗೆ ಸಮಾನ ಹಂಚಿದರೆ ಪ್ರತಿಯೊಬ್ಬರಿಗೆ ಎಷ್ಟು ಹಾಲು ದೊರೆಯುತ್ತದೆ ?
- (1) 250 ಮಿ.ಲೀ (2) 150 ಮಿ.ಲೀ  
(3) 200 ಮಿ.ಲೀ (4) 175 ಮಿ.ಲೀ

**SPACE FOR ROUGH WORK**

SPACE FOR ROUGH WORK